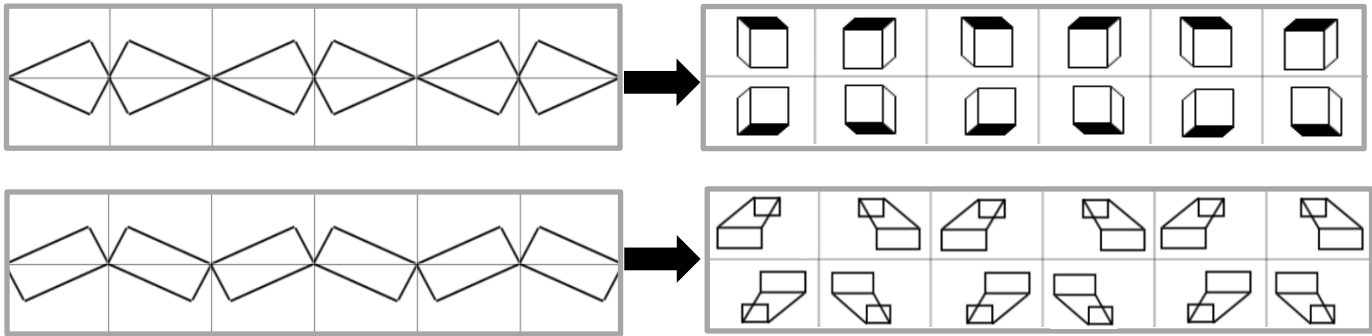
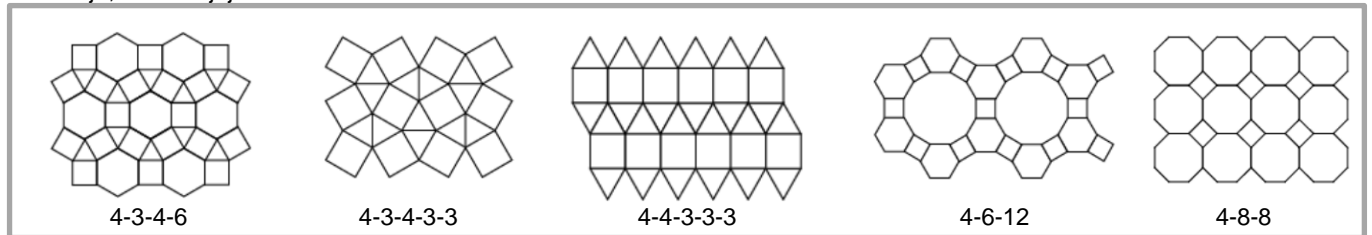


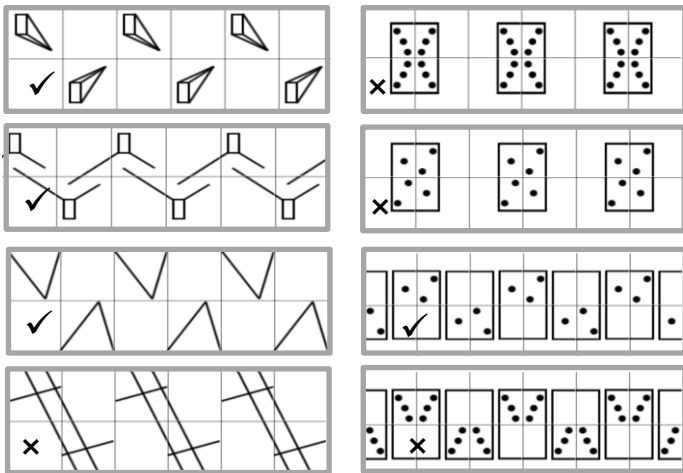
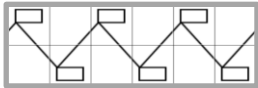
1. Po pravilu vzorca na levi nariši vzorec na desni s podanim začetnim motivom.



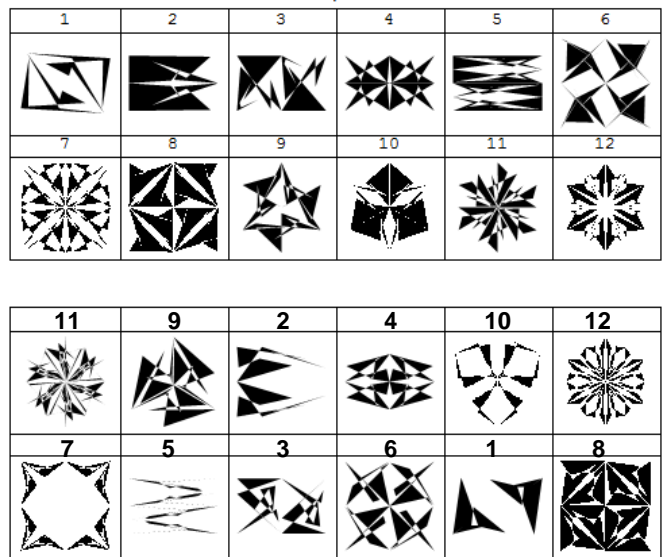
2. Delno pravilna tlakovanja so sestavljena iz dveh ali več pravilnih likov. Poišči (nariši ali drugače označi) vsa delno pravilna tlakovanja, ki vsebujejo kvadrate.




3. Označi (✓, ×), kateri vzorec ustreza in kateri ne ustreza zgornjemu vzorcu.



4. Vsakemu vzorcu spodaj določi ustrezen vzorec zgoraj. Vzorec spodaj označi z ustrežno številko oz. napiši, če para ni.



5. Vsakemu vzorcu spodaj določi ustrezen vzorec zgoraj. Vzorec spodaj označi z ustrežno številko oz. napiši, če para ni.



6. Vsakemu vzorcu spodaj določi ustrezen vzorec zgoraj. Vzorec spodaj označi z ustrežno številko oz. napiši, če para ni.

