

# DVA KRAT DVAJSET SVETOV

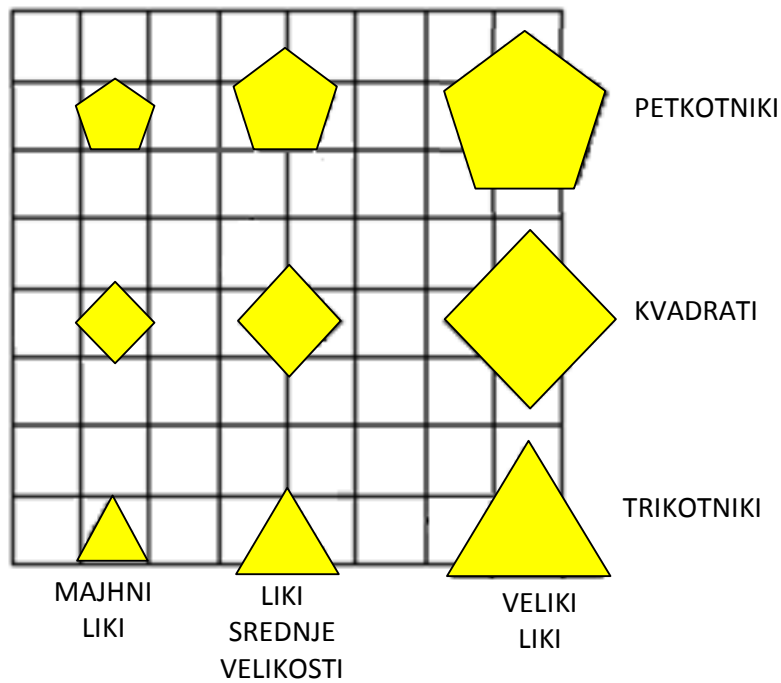
(NEGACIJA V SVETU TARSKEGA)



VAJE PRI TEKMOVANJU ZA PRIZNANJE  
LOGIČNE POŠASTI

(REŠITVE VAJ SO NA STRANI 23.)

# SVET



	1	2	3	4	5	6	7	8	9	10	11	12	13	14	15	16	17	18	19	20
1. SVET	1																			
2. SVET	2				R							N								

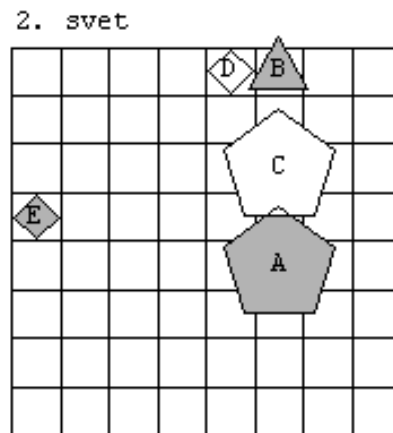
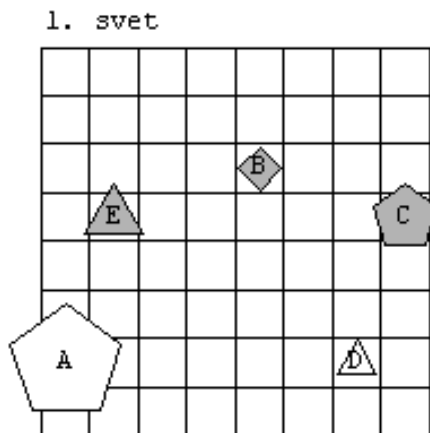
RESNIČNO

NERESNIČNO

1.

Ugotovi resničnostno vrednost danih stavkov, podanih v 2 svetovih

1. Lik C ni manjši kot A.
2. Lik B ni manjši kot E.
3. Lik D ni nad B.
4. Lik C ni kvadrat.
5. Lik B ni srednje velikosti.
6. Lik C ni srednje velikosti.
7. Lik B ni trikotnik.
8. Lik C ni kvadrat.
9. Lik E ni večji kot A.
10. Lik C ni pod D.
11. Lik D ni večji kot A.
12. Lik D ni siv.
13. Lik D ni kvadrat.
14. Lik D ni večji kot B.
15. Lik A ni majhen.
16. Lik E ni velik.
17. Lik D ni večji kot C.
18. Lik B ni bel.
19. Lik E ni levo od C.
20. Lik C ni nad A.



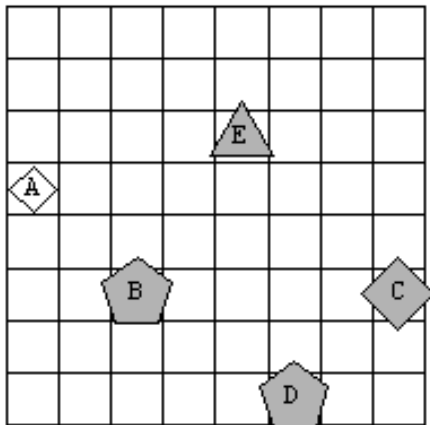
	1	2	3	4	5	6	7	8	9	10	11	12	13	14	15	16	17	18	19	20
1																				
2																				

2.

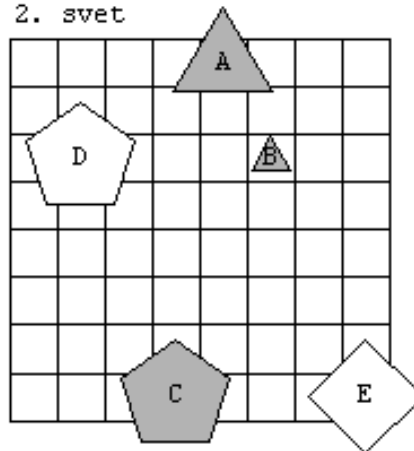
Ugotovi resničnostno vrednost danih stavkov, podanih v 2 svetovih

1. Lik A ni večji kot D.
2. Lik A ni nad C.
3. Lik C ni levo od D.
4. Lik B ni siv.
5. Lik D ni večji kot C.
6. Lik A ni petkotnik.
7. Lik B ni nad E.
8. Lik E ni nad A.
9. Lik B ni pod E.
10. Lik A ni levo od E.
11. Lik B ni pod E.
12. Lik B ni kvadrat.
13. Lik D ni velik.
14. Lik B ni pod E.
15. Lik B ni pod D.
16. Lik D ni kvadrat.
17. Lik D ni velik.
18. Lik D ni velik.
19. Lik A ni kvadrat.
20. Lik B ni manjši kot E.

1. svet



2. svet



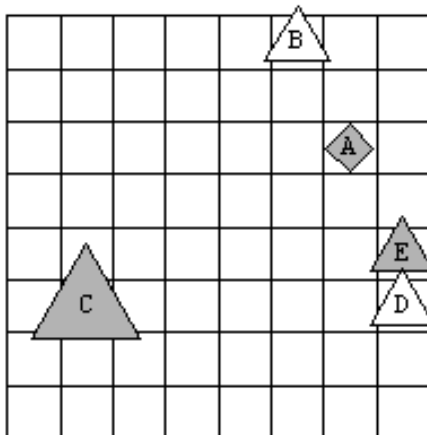
	1	2	3	4	5	6	7	8	9	10	11	12	13	14	15	16	17	18	19	20
1																				
2																				

3.

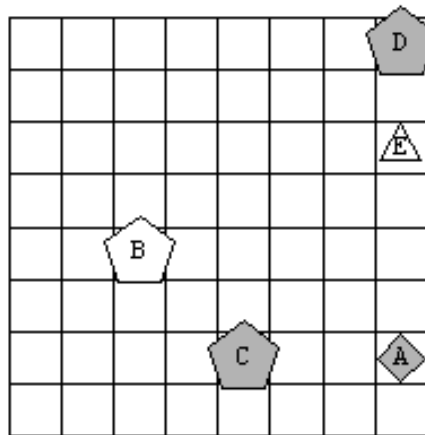
Ugotovi resničnostno vrednost danih stavkov, podanih v 2 svetovih

1. Lik A ni velik.
2. Lik A ni desno od E.
3. Lik E ni siv.
4. Lik D ni petkotnik.
5. Lik D ni majhen.
6. Lik D ni bel.
7. Lik E ni desno od A.
8. Lik D ni kvadrat.
9. Lik A ni petkotnik.
10. Lik B ni desno od E.
11. Lik E ni pod B.
12. Lik E ni levo od A.
13. Lik E ni siv.
14. Lik B ni siv.
15. Lik C ni nad B.
16. Lik E ni velik.
17. Lik B ni srednje velikosti.
18. Lik B ni večji kot D.
19. Lik D ni manjši kot A.
20. Lik A ni bel.

1. svet



2. svet

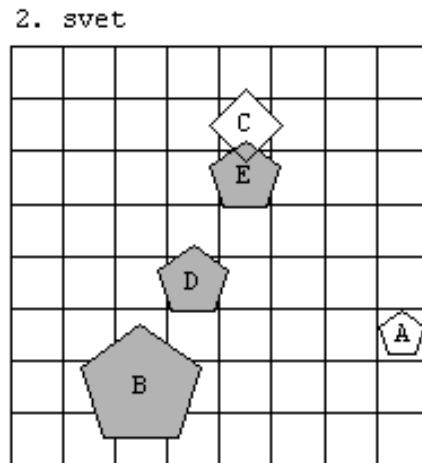
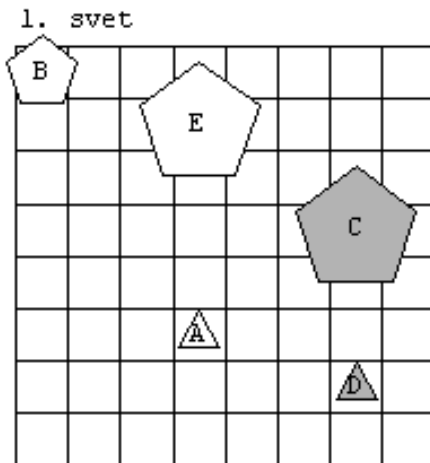


	1	2	3	4	5	6	7	8	9	10	11	12	13	14	15	16	17	18	19	20
1																				
2																				

4.

Ugotovi resničnostno vrednost danih stavkov, podanih v 2 svetovih

1. Lik B ni nad A.
2. Lik A ni velik.
3. Lik A ni nad D.
4. Lik A ni desno od B.
5. Lik A ni večji kot B.
6. Lik C ni trikotnik.
7. Lik D ni majhen.
8. Lik C ni pod A.
9. Lik D ni bel.
10. Lik C ni nad E.
11. Lik B ni večji kot A.
12. Lik D ni levo od A.
13. Lik D ni bel.
14. Lik A ni siv.
15. Lik C ni pod D.
16. Lik D ni desno od E.
17. Lik E ni desno od D.
18. Lik C ni manjši kot A.
19. Lik D ni siv.
20. Lik A ni kvadrat.



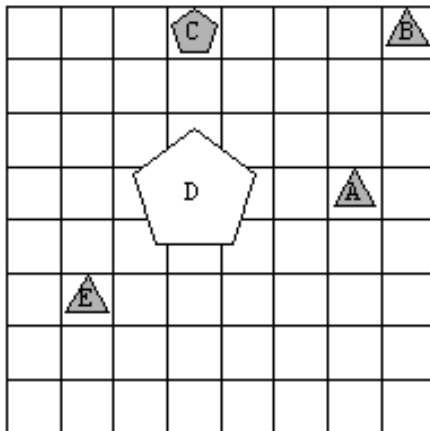
	1	2	3	4	5	6	7	8	9	10	11	12	13	14	15	16	17	18	19	20
1																				
2																				

5.

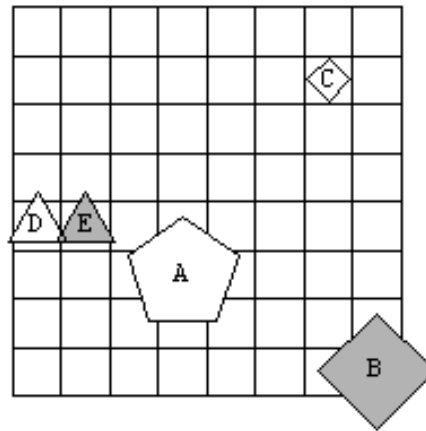
Ugotovi resničnostno vrednost danih stavkov, podanih v 2 svetovih

1. Lik B ni kvadrat.
2. Lik C ni petkotnik.
3. Lik C ni bel.
4. Lik B ni desno od E.
5. Lik B ni desno od D.
6. Lik E ni bel.
7. Lik C ni velik.
8. Lik D ni kvadrat.
9. Lik A ni velik.
10. Lik E ni nad D.
11. Lik D ni siv.
12. Lik B ni levo od A.
13. Lik C ni velik.
14. Lik C ni levo od D.
15. Lik E ni srednje velikosti.
16. Lik A ni nad B.
17. Lik A ni desno od E.
18. Lik B ni desno od C.
19. Lik D ni petkotnik.
20. Lik D ni petkotnik.

1. svet



2. svet



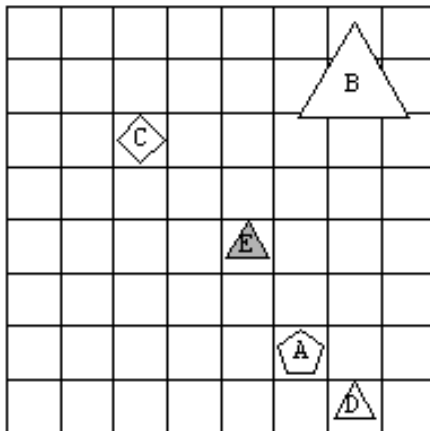
	1	2	3	4	5	6	7	8	9	10	11	12	13	14	15	16	17	18	19	20
1																				
2																				

6.

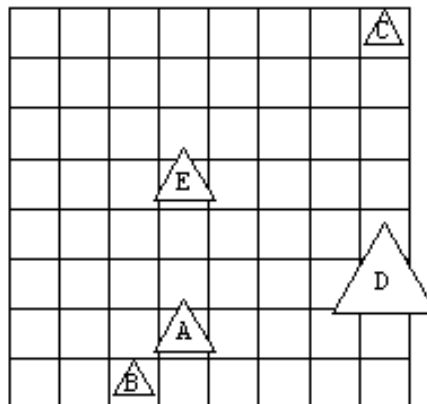
Ugotovi resničnostno vrednost danih stavkov, podanih v 2 svetovih

1. Lik E ni trikotnik.
2. Lik C ni majhen.
3. Lik C ni pod B.
4. Lik C ni siv.
5. Lik E ni petkotnik.
6. Lik B ni petkotnik.
7. Lik D ni pod E.
8. Lik E ni majhen.
9. Lik B ni nad E.
10. Lik C ni levo od E.
11. Lik C ni levo od B.
12. Lik B ni majhen.
13. Lik C ni velik.
14. Lik D ni siv.
15. Lik D ni kvadrat.
16. Lik B ni desno od E.
17. Lik D ni večji kot E.
18. Lik E ni manjši kot B.
19. Lik C ni bel.
20. Lik A ni nad D.

1. svet



2. svet



	1	2	3	4	5	6	7	8	9	10	11	12	13	14	15	16	17	18	19	20
1																				
2																				

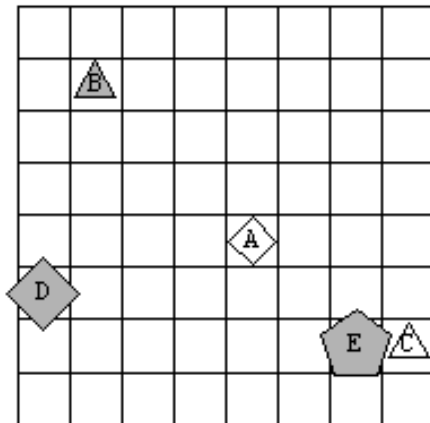


7.

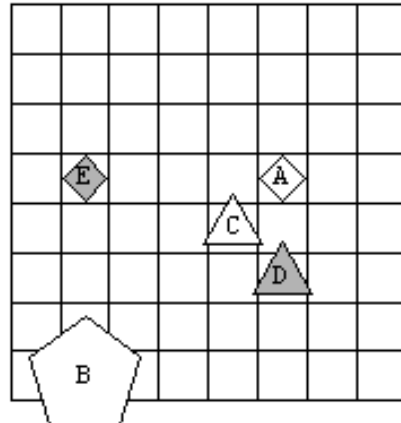
Ugotovi resničnostno vrednost danih stavkov, podanih v 2 svetovih

1. Lik C ni trikotnik.
2. Lik A ni majhen.
3. Lik A ni kvadrat.
4. Lik D ni večji kot A.
5. Lik D ni siv.
6. Lik E ni večji kot A.
7. Lik E ni bel.
8. Lik A ni velik.
9. Lik B ni petkotnik.
10. Lik D ni bel.
11. Lik B ni desno od E.
12. Lik B ni bel.
13. Lik A ni bel.
14. Lik A ni levo od C.
15. Lik C ni kvadrat.
16. Lik E ni levo od A.
17. Lik B ni pod D.
18. Lik D ni manjši kot C.
19. Lik C ni desno od B.
20. Lik C ni bel.

1. svet



2. svet



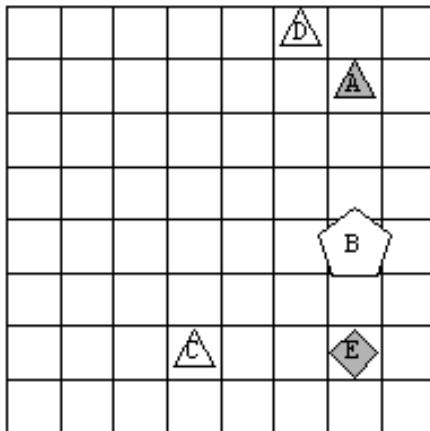
	1	2	3	4	5	6	7	8	9	10	11	12	13	14	15	16	17	18	19	20
1																				
2																				

8.

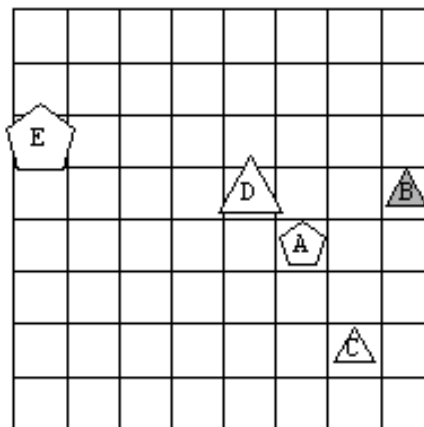
Ugotovi resničnostno vrednost danih stavkov, podanih v 2 svetovih

1. Lik E ni bel.
2. Lik D ni večji kot E.
3. Lik E ni desno od D.
4. Lik C ni večji kot A.
5. Lik E ni bel.
6. Lik A ni velik.
7. Lik A ni trikotnik.
8. Lik D ni bel.
9. Lik E ni večji kot B.
10. Lik A ni levo od B.
11. Lik A ni srednje velikosti.
12. Lik D ni manjši kot A.
13. Lik E ni bel.
14. Lik C ni večji kot A.
15. Lik B ni nad C.
16. Lik E ni manjši kot B.
17. Lik D ni siv.
18. Lik E ni desno od B.
19. Lik E ni petkotnik.
20. Lik B ni kvadrat.

1. svet



2. svet



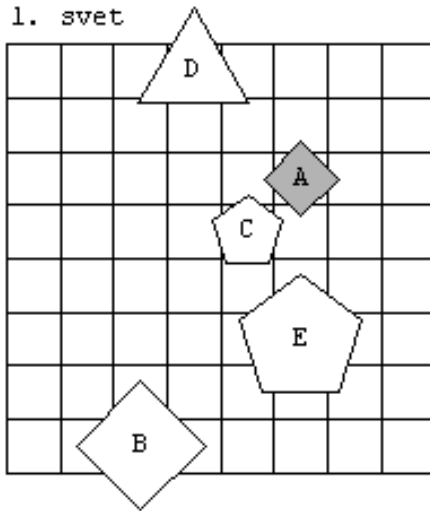
	1	2	3	4	5	6	7	8	9	10	11	12	13	14	15	16	17	18	19	20
1																				
2																				

9.

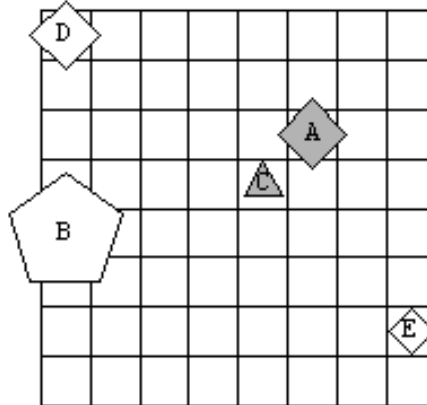
Ugotovi resničnostno vrednost danih stavkov, podanih v 2 svetovih

1. Lik D ni trikotnik.
2. Lik D ni trikotnik.
3. Lik D ni pod B.
4. Lik C ni pod A.
5. Lik E ni nad D.
6. Lik A ni trikotnik.
7. Lik D ni majhen.
8. Lik E ni kvadrat.
9. Lik A ni petkotnik.
10. Lik A ni srednje velikosti.
11. Lik D ni večji kot B.
12. Lik C ni bel.
13. Lik E ni velik.
14. Lik E ni velik.
15. Lik D ni kvadrat.
16. Lik B ni trikotnik.
17. Lik B ni bel.
18. Lik C ni siv.
19. Lik A ni manjši kot E.
20. Lik D ni levo od A.

1. svet



2. svet



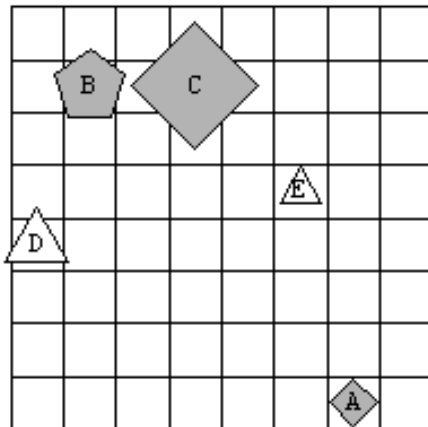
	1	2	3	4	5	6	7	8	9	10	11	12	13	14	15	16	17	18	19	20
1																				
2																				

10.

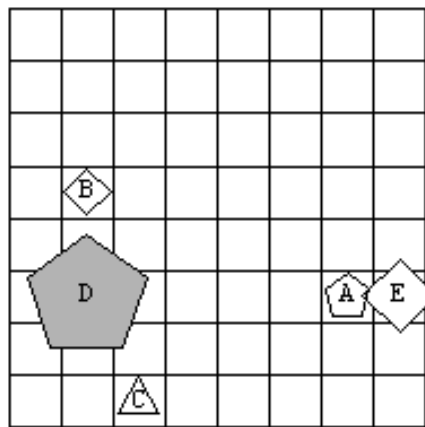
Ugotovi resničnostno vrednost danih stavkov, podanih v 2 svetovih

1. Lik E ni manjši kot B.
2. Lik D ni večji kot C.
3. Lik D ni levo od E.
4. Lik A ni velik.
5. Lik A ni bel.
6. Lik D ni majhen.
7. Lik B ni levo od D.
8. Lik C ni pod E.
9. Lik A ni kvadrat.
10. Lik D ni trikotnik.
11. Lik E ni večji kot D.
12. Lik B ni bel.
13. Lik B ni desno od E.
14. Lik E ni pod D.
15. Lik D ni siv.
16. Lik D ni siv.
17. Lik B ni večji kot E.
18. Lik C ni kvadrat.
19. Lik A ni velik.
20. Lik B ni kvadrat.

1. svet



2. svet



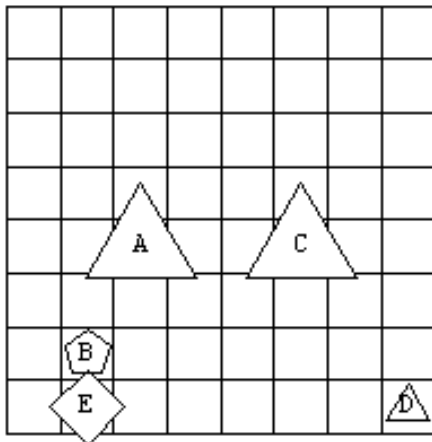
	1	2	3	4	5	6	7	8	9	10	11	12	13	14	15	16	17	18	19	20
1																				
2																				

11.

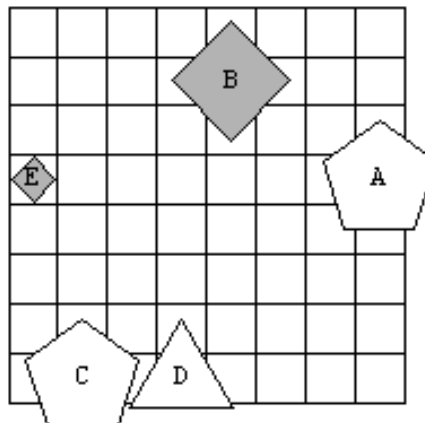
Ugotovi resničnostno vrednost danih stavkov, podanih v 2 svetovih

1. Lik E ni trikotnik.
2. Lik D ni srednje velikosti.
3. Lik D ni majhen.
4. Lik C ni nad E.
5. Lik C ni bel.
6. Lik B ni večji kot D.
7. Lik C ni velik.
8. Lik B ni trikotnik.
9. Lik B ni levo od D.
10. Lik C ni majhen.
11. Lik D ni siv.
12. Lik E ni desno od D.
13. Lik C ni bel.
14. Lik C ni manjši kot E.
15. Lik B ni večji kot E.
16. Lik D ni velik.
17. Lik C ni manjši kot E.
18. Lik C ni večji kot A.
19. Lik A ni velik.
20. Lik E ni kvadrat.

1. svet



2. svet

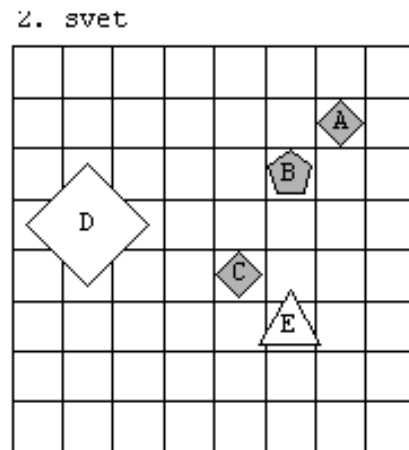
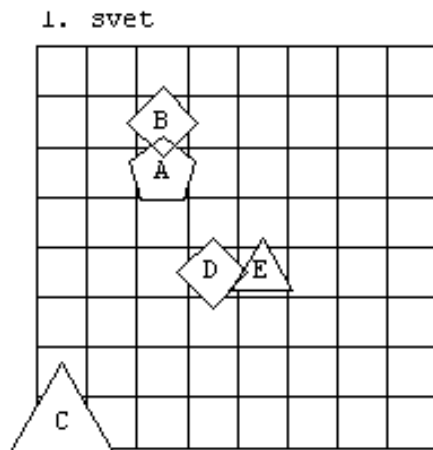


	1	2	3	4	5	6	7	8	9	10	11	12	13	14	15	16	17	18	19	20
1																				
2																				

12.

Ugotovi resničnostno vrednost danih stavkov, podanih v 2 svetovih

1. Lik D ni kvadrat.
2. Lik E ni nad D.
3. Lik D ni srednje velikosti.
4. Lik B ni pod E.
5. Lik E ni trikotnik.
6. Lik B ni majhen.
7. Lik A ni majhen.
8. Lik D ni desno od B.
9. Lik E ni petkotnik.
10. Lik A ni levo od C.
11. Lik C ni siv.
12. Lik E ni nad C.
13. Lik C ni trikotnik.
14. Lik E ni srednje velikosti.
15. Lik E ni desno od B.
16. Lik B ni pod A.
17. Lik B ni desno od E.
18. Lik C ni srednje velikosti.
19. Lik D ni desno od A.
20. Lik A ni nad C.



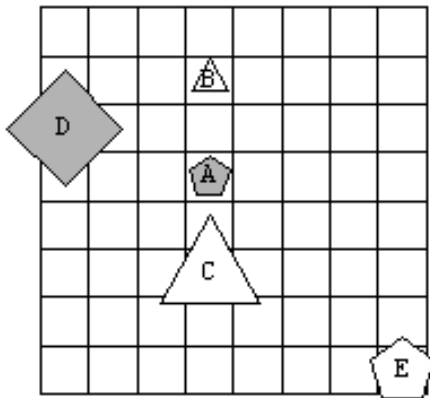
	1	2	3	4	5	6	7	8	9	10	11	12	13	14	15	16	17	18	19	20
1																				
2																				

13.

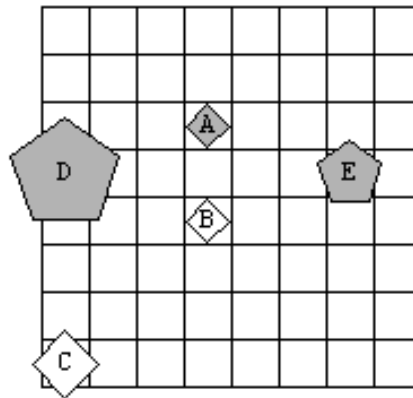
Ugotovi resničnostno vrednost danih stavkov, podanih v 2 svetovih

1. Lik B ni velik.
2. Lik E ni trikotnik.
3. Lik A ni bel.
4. Lik D ni pod A.
5. Lik A ni desno od C.
6. Lik E ni večji kot D.
7. Lik B ni nad D.
8. Lik E ni kvadrat.
9. Lik E ni petkotnik.
10. Lik C ni siv.
11. Lik E ni nad D.
12. Lik E ni bel.
13. Lik E ni desno od B.
14. Lik A ni velik.
15. Lik A ni trikotnik.
16. Lik A ni srednje velikosti.
17. Lik A ni velik.
18. Lik A ni kvadrat.
19. Lik B ni pod E.
20. Lik D ni manjši kot B.

1. svet



2. svet



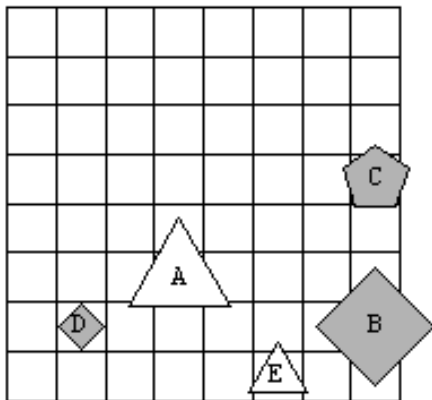
	1	2	3	4	5	6	7	8	9	10	11	12	13	14	15	16	17	18	19	20
1																				
2																				

14.

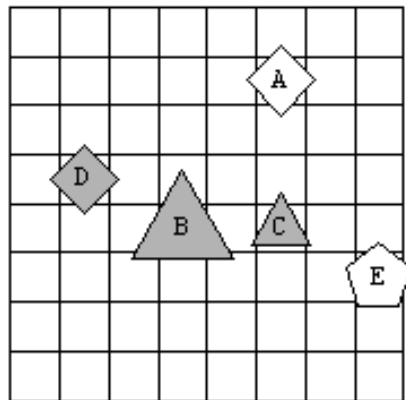
Ugotovi resničnostno vrednost danih stavkov, podanih v 2 svetovih

1. Lik B ni pod A.
2. Lik C ni velik.
3. Lik A ni majhen.
4. Lik E ni velik.
5. Lik B ni bel.
6. Lik C ni velik.
7. Lik A ni nad E.
8. Lik C ni manjši kot D.
9. Lik C ni levo od E.
10. Lik A ni pod B.
11. Lik E ni velik.
12. Lik C ni levo od E.
13. Lik E ni pod C.
14. Lik A ni kvadrat.
15. Lik C ni desno od B.
16. Lik A ni velik.
17. Lik E ni pod A.
18. Lik D ni levo od A.
19. Lik B ni levo od D.
20. Lik B ni siv.

1. svet



2. svet



	1	2	3	4	5	6	7	8	9	10	11	12	13	14	15	16	17	18	19	20
1																				
2																				

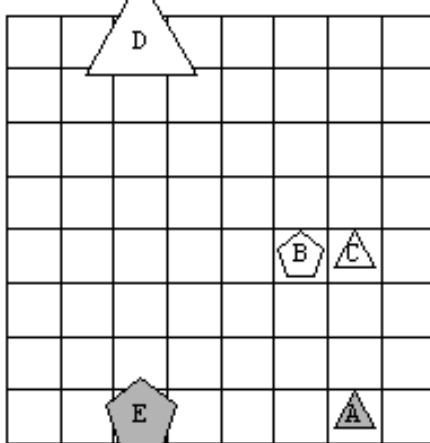


15.

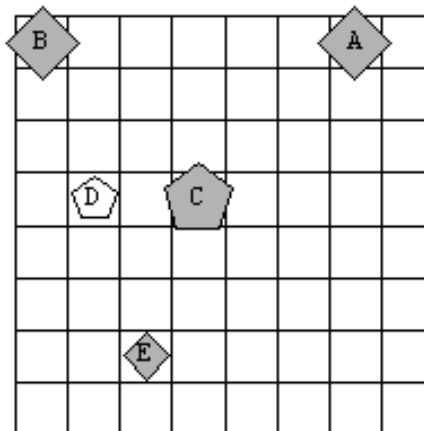
Ugotovi resničnostno vrednost danih stavkov, podanih v 2 svetovih

1. Lik B ni petkotnik.
2. Lik C ni levo od D.
3. Lik B ni desno od A.
4. Lik D ni bel.
5. Lik A ni bel.
6. Lik E ni desno od C.
7. Lik C ni večji kot A.
8. Lik B ni nad C.
9. Lik E ni pod B.
10. Lik A ni velik.
11. Lik E ni srednje velikosti.
12. Lik B ni nad C.
13. Lik D ni majhen.
14. Lik A ni pod C.
15. Lik E ni nad C.
16. Lik C ni manjši kot B.
17. Lik B ni večji kot E.
18. Lik D ni trikotnik.
19. Lik C ni desno od A.
20. Lik A ni trikotnik.

1. svet



2. svet



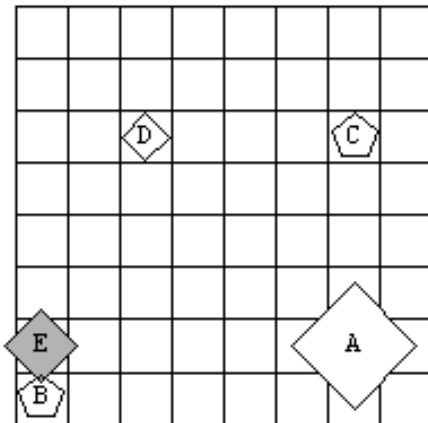
	1	2	3	4	5	6	7	8	9	10	11	12	13	14	15	16	17	18	19	20
1																				
2																				

16.

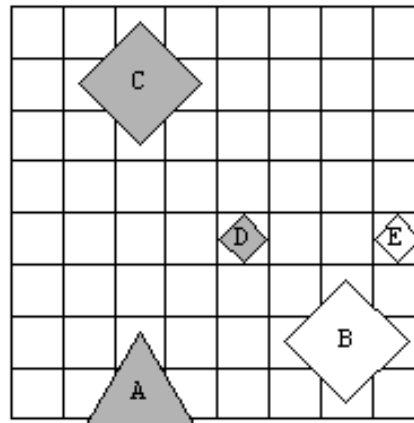
Ugotovi resničnostno vrednost danih stavkov, podanih v 2 svetovih

1. Lik D ni pod B.
2. Lik A ni levo od C.
3. Lik A ni večji kot E.
4. Lik E ni manjši kot B.
5. Lik A ni pod C.
6. Lik A ni desno od C.
7. Lik A ni nad D.
8. Lik D ni večji kot E.
9. Lik B ni levo od E.
10. Lik C ni petkotnik.
11. Lik C ni levo od A.
12. Lik C ni kvadrat.
13. Lik A ni trikotnik.
14. Lik D ni petkotnik.
15. Lik E ni pod A.
16. Lik C ni siv.
17. Lik B ni nad A.
18. Lik D ni nad E.
19. Lik A ni kvadrat.
20. Lik D ni pod B.

1. svet



2. svet



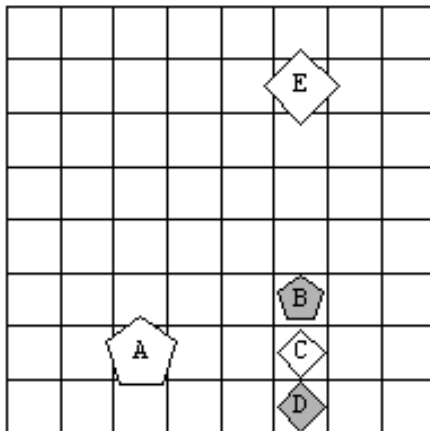
	1	2	3	4	5	6	7	8	9	10	11	12	13	14	15	16	17	18	19	20
1																				
2																				

17.

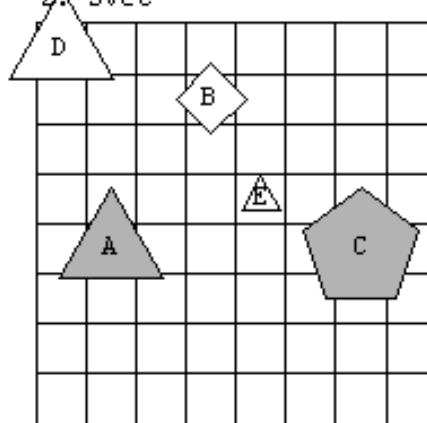
Ugotovi resničnostno vrednost danih stavkov, podanih v 2 svetovih

1. Lik C ni siv.
2. Lik D ni pod B.
3. Lik B ni siv.
4. Lik D ni velik.
5. Lik E ni velik.
6. Lik C ni manjši kot B.
7. Lik C ni petkotnik.
8. Lik E ni manjši kot D.
9. Lik A ni manjši kot C.
10. Lik D ni desno od A.
11. Lik B ni desno od A.
12. Lik A ni nad D.
13. Lik A ni levo od D.
14. Lik C ni pod B.
15. Lik A ni petkotnik.
16. Lik B ni večji kot A.
17. Lik E ni srednje velikosti.
18. Lik D ni levo od E.
19. Lik E ni pod D.
20. Lik C ni majhen.

1. svet



2. svet



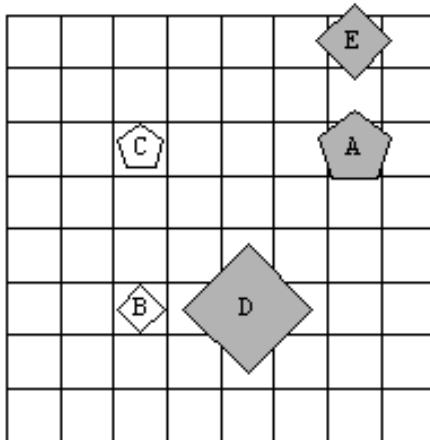
	1	2	3	4	5	6	7	8	9	10	11	12	13	14	15	16	17	18	19	20
1																				
2																				

18.

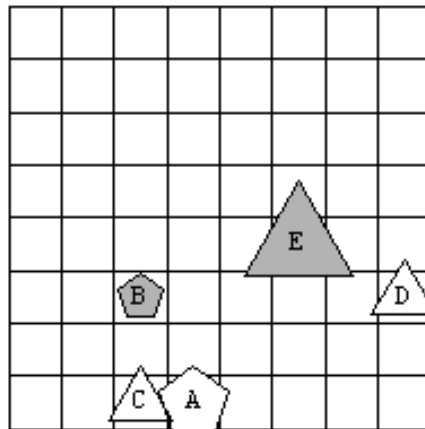
Ugotovi resničnostno vrednost danih stavkov, podanih v 2 svetovih

1. Lik A ni srednje velikosti.
2. Lik E ni petkotnik.
3. Lik B ni majhen.
4. Lik B ni srednje velikosti.
5. Lik A ni petkotnik.
6. Lik C ni siv.
7. Lik C ni srednje velikosti.
8. Lik C ni desno od B.
9. Lik D ni nad C.
10. Lik D ni petkotnik.
11. Lik D ni pod B.
12. Lik D ni nad B.
13. Lik A ni srednje velikosti.
14. Lik B ni pod A.
15. Lik D ni majhen.
16. Lik A ni srednje velikosti.
17. Lik E ni petkotnik.
18. Lik D ni bel.
19. Lik D ni manjši kot C.
20. Lik D ni srednje velikosti.

1. svet



2. svet



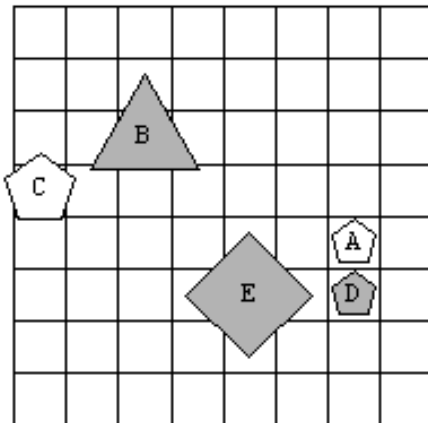
	1	2	3	4	5	6	7	8	9	10	11	12	13	14	15	16	17	18	19	20
1																				
2																				

19.

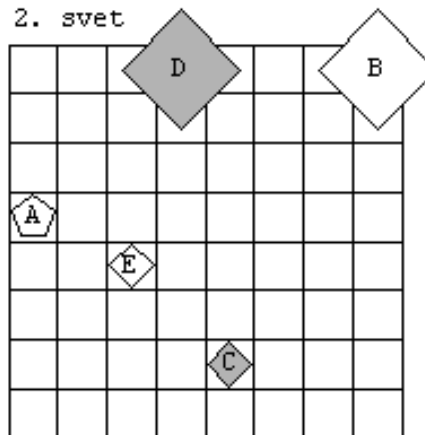
Ugotovi resničnostno vrednost danih stavkov, podanih v 2 svetovih

1. Lik E ni petkotnik.
2. Lik C ni kvadrat.
3. Lik D ni majhen.
4. Lik C ni desno od A.
5. Lik B ni bel.
6. Lik D ni desno od C.
7. Lik D ni nad E.
8. Lik B ni petkotnik.
9. Lik B ni majhen.
10. Lik A ni nad C.
11. Lik B ni siv.
12. Lik B ni pod A.
13. Lik E ni manjši kot C.
14. Lik D ni velik.
15. Lik D ni petkotnik.
16. Lik D ni velik.
17. Lik E ni levo od D.
18. Lik E ni srednje velikosti.
19. Lik D ni večji kot B.
20. Lik C ni desno od A.

1. svet



2. svet



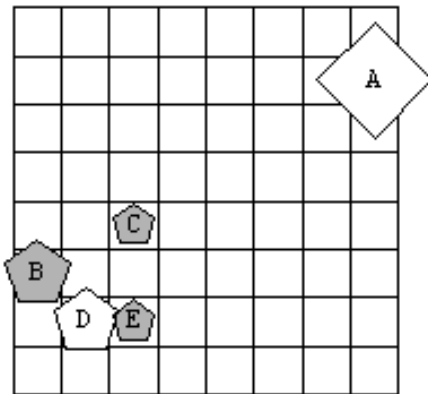
	1	2	3	4	5	6	7	8	9	10	11	12	13	14	15	16	17	18	19	20
1																				
2																				

20.

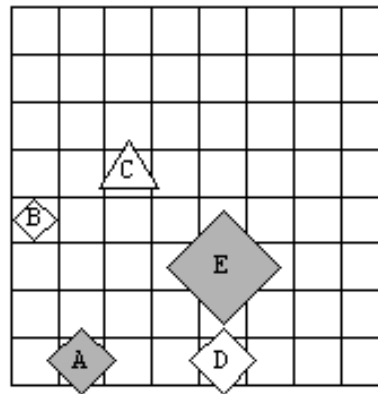
Ugotovi resničnostno vrednost danih stavkov, podanih v 2 svetovih

1. Lik A ni desno od E.
2. Lik A ni trikotnik.
3. Lik C ni večji kot E.
4. Lik B ni trikotnik.
5. Lik B ni kvadrat.
6. Lik D ni velik.
7. Lik B ni levo od C.
8. Lik D ni desno od E.
9. Lik C ni kvadrat.
10. Lik D ni srednje velikosti.
11. Lik C ni manjši kot E.
12. Lik D ni manjši kot B.
13. Lik D ni nad A.
14. Lik C ni pod E.
15. Lik E ni pod C.
16. Lik C ni srednje velikosti.
17. Lik B ni desno od E.
18. Lik C ni manjši kot E.
19. Lik C ni pod E.
20. Lik C ni manjši kot E.

1. svet



2. svet



	1	2	3	4	5	6	7	8	9	10	11	12	13	14	15	16	17	18	19	20
1																				
2																				

REŠITEV

1.

	1	2	3	4	5	6	7	8	9	10	11	12	13	14	15	16	17	18	19	20
1	N	N	R	R	R	N	R	R	R	R	R	R	R	R	R	R	R	R	N	N
2	R	R	R	R	N	R	N	R	R	N	R	R	N	R	R	R	R	R	N	N

2.

	1	2	3	4	5	6	7	8	9	10	11	12	13	14	15	16	17	18	19	20
1	R	N	R	N	R	R	R	N	N	N	N	R	R	N	R	R	R	R	N	R
2	R	N	R	N	R	R	N	R	R	N	R	R	N	R	R	R	N	N	R	N

3.

	1	2	3	4	5	6	7	8	9	10	11	12	13	14	15	16	17	18	19	20
1	R	R	N	R	R	N	N	R	R	R	N	R	N	R	R	R	N	R	R	R
2	R	R	R	N	R	R	R	R	R	R	R	R	R	R	R	R	N	R	R	R

4.

	1	2	3	4	5	6	7	8	9	10	11	12	13	14	15	16	17	18	19	20
1	N	R	N	N	R	R	N	R	R	R	N	R	R	R	R	N	R	R	N	R
2	R	R	R	N	R	R	R	R	R	N	N	N	R	R	R	R	N	R	N	R

5.

	1	2	3	4	5	6	7	8	9	10	11	12	13	14	15	16	17	18	19	20
1	R	N	R	N	N	R	R	R	R	R	R	R	R	R	R	R	N	N	N	N
2	N	R	N	N	N	R	R	R	N	R	R	R	R	R	N	N	N	N	R	R

6.

	1	2	3	4	5	6	7	8	9	10	11	12	13	14	15	16	17	18	19	20
1	N	N	N	R	R	R	N	N	N	N	N	R	R	R	R	N	R	N	N	N
2	N	N	R	R	R	R	N	R	R	R	R	N	R	R	R	R	N	R	N	R

7.

	1	2	3	4	5	6	7	8	9	10	11	12	13	14	15	16	17	18	19	20
1	N	N	N	N	N	N	R	R	R	R	R	R	N	N	R	R	R	R	N	N
2	N	N	N	N	N	R	R	R	N	R	R	N	N	R	R	N	N	R	N	N

8.

	1	2	3	4	5	6	7	8	9	10	11	12	13	14	15	16	17	18	19	20
1	R	R	N	R	R	R	N	N	R	R	R	R	R	R	N	N	R	R	R	R
2	N	R	R	R	N	R	R	N	N	N	R	R	N	R	N	R	R	R	N	R

9.

	1	2	3	4	5	6	7	8	9	10	11	12	13	14	15	16	17	18	19	20
1	N	N	R	N	R	R	R	R	R	N	R	N	N	N	R	R	N	R	N	N
2	R	R	R	N	R	R	R	N	R	N	R	R	R	R	N	R	N	N	R	N

10.

	1	2	3	4	5	6	7	8	9	10	11	12	13	14	15	16	17	18	19	20
1	N	R	N	R	R	R	R	R	N	N	R	R	R	R	R	R	N	N	R	R
2	R	N	N	R	N	R	R	N	R	R	R	N	R	R	N	N	R	R	R	N

11.

	1	2	3	4	5	6	7	8	9	10	11	12	13	14	15	16	17	18	19	20
1	R	R	N	N	N	R	N	R	N	R	R	R	N	R	R	R	R	R	N	N
2	R	R	R	R	N	R	N	R	R	R	R	R	N	R	N	N	R	R	N	N

12.

	1	2	3	4	5	6	7	8	9	10	11	12	13	14	15	16	17	18	19	20
1	N	R	N	R	N	R	R	N	R	R	R	N	N	N	N	R	R	R	N	N
2	N	R	R	R	N	N	N	R	R	R	N	R	R	N	R	N	R	R	R	N

13.

	1	2	3	4	5	6	7	8	9	10	11	12	13	14	15	16	17	18	19	20
1	R	R	R	R	R	R	N	R	N	R	R	N	N	R	R	R	R	R	R	R
2	R	R	R	N	N	R	R	R	N	R	R	R	N	R	R	R	R	N	N	R

14.

	1	2	3	4	5	6	7	8	9	10	11	12	13	14	15	16	17	18	19	20
1	N	R	R	R	R	R	N	R	R	R	R	R	N	R	R	N	N	N	R	N
2	N	R	R	R	R	R	N	R	N	R	R	N	N	N	N	R	N	N	R	N

15.

	1	2	3	4	5	6	7	8	9	10	11	12	13	14	15	16	17	18	19	20
1	N	R	R	N	R	R	R	R	N	R	N	R	R	N	R	R	R	N	R	N
2	R	R	R	N	R	R	R	N	N	R	R	N	N	R	R	R	N	R	R	R

16.

	1	2	3	4	5	6	7	8	9	10	11	12	13	14	15	16	17	18	19	20
1	R	R	N	R	N	R	R	R	R	N	R	R	R	R	R	R	R	N	N	R
2	R	R	N	N	N	R	R	R	N	R	R	N	N	R	R	N	N	R	R	R

17.

	1	2	3	4	5	6	7	8	9	10	11	12	13	14	15	16	17	18	19	20
1	R	N	N	R	R	R	R	R	R	N	N	N	N	N	N	R	N	R	R	N
2	N	R	R	N	R	R	N	N	R	R	N	R	R	N	R	R	R	N	N	R

18.

	1	2	3	4	5	6	7	8	9	10	11	12	13	14	15	16	17	18	19	20
1	N	R	N	R	N	R	R	R	R	R	R	R	N	N	R	N	R	R	R	R
2	N	R	N	R	N	R	N	R	N	R	R	R	N	R	R	N	R	N	R	N

19.

	1	2	3	4	5	6	7	8	9	10	11	12	13	14	15	16	17	18	19	20
1	R	R	N	R	R	N	R	R	R	R	N	R	R	R	N	R	N	R	R	R
2	R	N	R	N	N	R	N	R	R	N	R	R	R	N	R	N	N	R	R	N

20.

	1	2	3	4	5	6	7	8	9	10	11	12	13	14	15	16	17	18	19	20
1	N	R	R	R	R	R	N	R	R	N	R	R	R	R	N	R	R	R	R	R
2	R	R	R	R	N	R	N	R	R	N	N	R	R	R	N	N	R	N	R	N