

DVA KRAT DVAJSET SVETOV

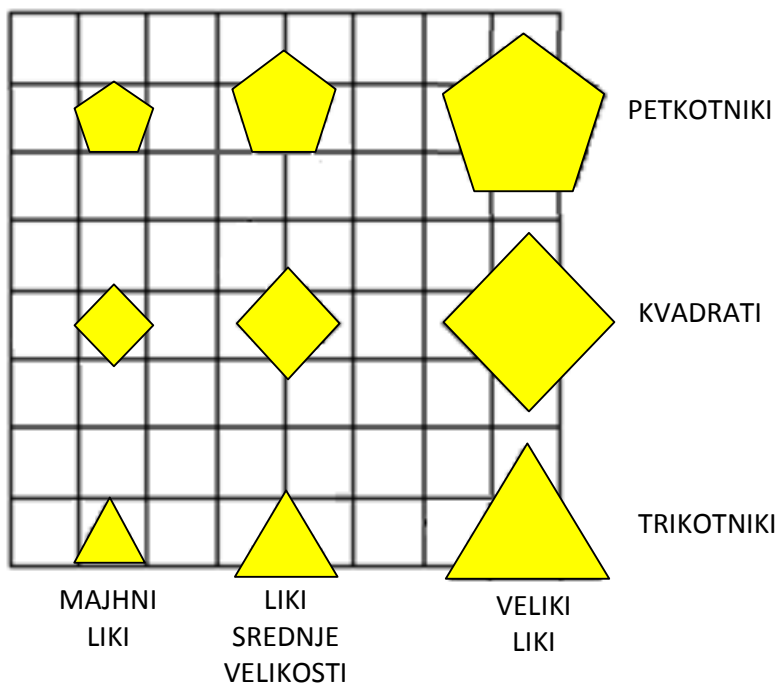
(SVET TARSKEGA)



VAJE PRI TEKMOVANJU ZA PRIZNANJE
LOGIČNE POŠASTI

(REŠITVE VAJ SO NA STRANI 23.)

SVET



	1	2	3	4	5	6	7	8	9	10	11	12	13	14	15	16	17	18	19	20
1. SVET	1																			
2. SVET	2				R							N								

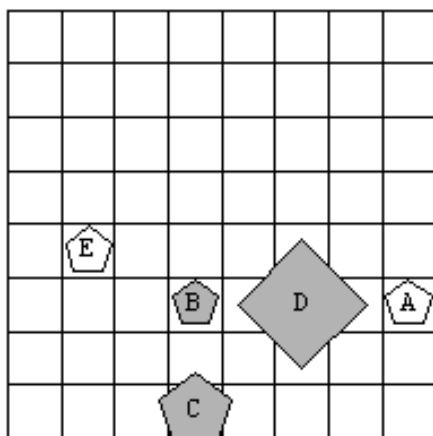
RESNIČNO NERESNIČNO

1.

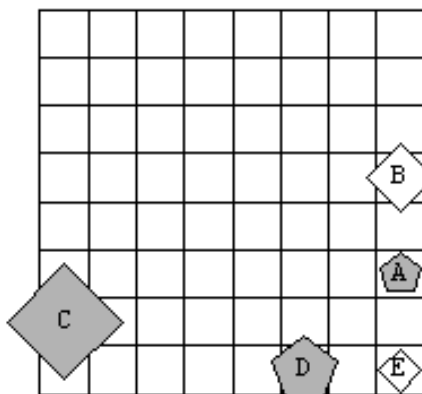
Ugotovi resničnostno vrednost danih stavkov, podanih v 2 svetovih

1. Lik D je manjši kot E.
2. Lik B je pod C.
3. Lik C je kvadrat.
4. Lik C je levo od A.
5. Lik C je petkotnik.
6. Lik B je levo od D.
7. Lik B je kvadrat.
8. Lik D je siv.
9. Lik D je večji kot B.
10. Lik E je nad C.
11. Lik D je trikotnik.
12. Lik C je bel.
13. Lik A je trikotnik.
14. Lik C je večji kot A.
15. Lik B je majhen.
16. Lik D je majhen.
17. Lik A je kvadrat.
18. Lik B je srednje velikosti.
19. Lik D je levo od A.
20. Lik C je petkotnik.

1. svet



2. svet

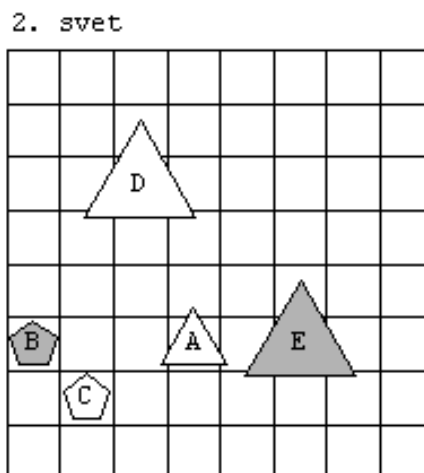
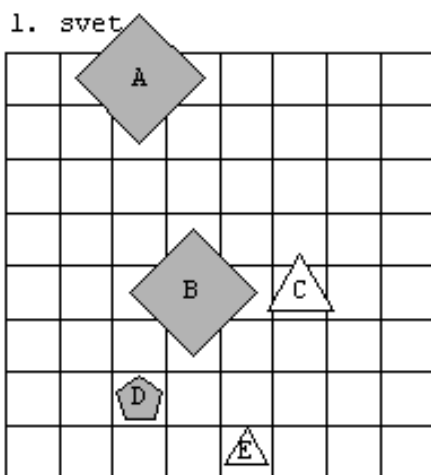


	1	2	3	4	5	6	7	8	9	10	11	12	13	14	15	16	17	18	19	20
1																				
2																				

2.

Ugotovi resničnostno vrednost danih stavkov, podanih v 2 svetovih

1. Lik A je srednje velikosti.
2. Lik A je kvadrat.
3. Lik A je večji kot B.
4. Lik C je petkotnik.
5. Lik B je levo od E.
6. Lik D je desno od A.
7. Lik A je desno od C.
8. Lik C je pod E.
9. Lik D je nad A.
10. Lik B je pod A.
11. Lik A je nad E.
12. Lik E je manjši kot C.
13. Lik A je večji kot B.
14. Lik A je srednje velikosti.
15. Lik E je siv.
16. Lik A je trikotnik.
17. Lik E je siv.
18. Lik A je manjši kot E.
19. Lik D je velik.
20. Lik B je pod D.

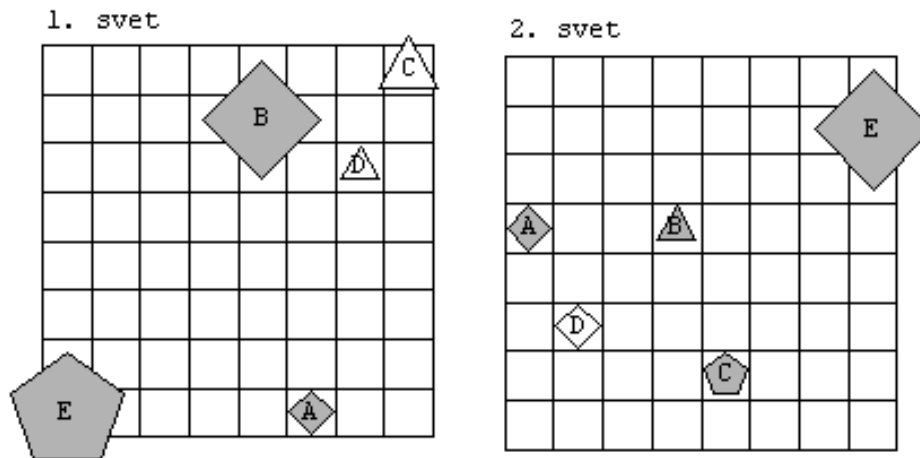


	1	2	3	4	5	6	7	8	9	10	11	12	13	14	15	16	17	18	19	20
1																				
2																				

3.

Ugotovi resničnostno vrednost danih stavkov, podanih v 2 svetovih

1. Lik E je srednje velikosti.
2. Lik D je petkotnik.
3. Lik C je pod D.
4. Lik D je bel.
5. Lik B je levo od D.
6. Lik D je petkotnik.
7. Lik B je bel.
8. Lik A je majhen.
9. Lik A je desno od E.
10. Lik A je večji kot E.
11. Lik B je majhen.
12. Lik E je levo od C.
13. Lik D je desno od B.
14. Lik C je manjši kot A.
15. Lik E je manjši kot A.
16. Lik E je desno od B.
17. Lik B je desno od C.
18. Lik D je kvadrat.
19. Lik B je srednje velikosti.
20. Lik E je trikotnik.



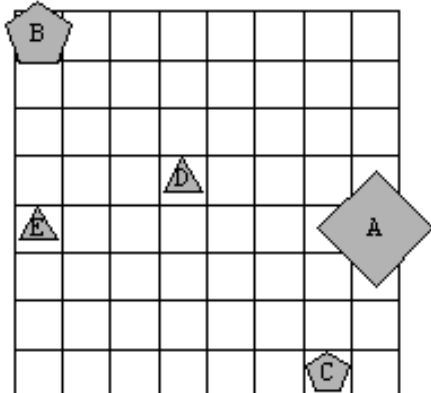
	1	2	3	4	5	6	7	8	9	10	11	12	13	14	15	16	17	18	19	20
1																				
2																				

4.

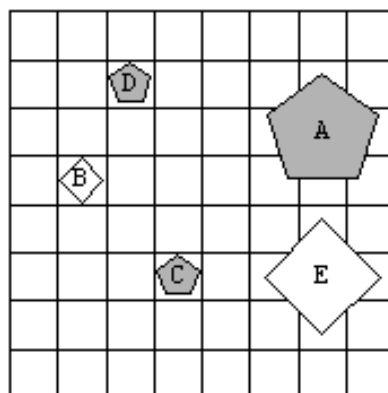
Ugotovi resničnostno vrednost danih stavkov, podanih v 2 svetovih

1. Lik B je petkotnik.
2. Lik D je srednje velikosti.
3. Lik D je kvadrat.
4. Lik C je desno od B.
5. Lik C je siv.
6. Lik C je večji kot B.
7. Lik A je siv.
8. Lik E je desno od B.
9. Lik B je nad D.
10. Lik A je pod E.
11. Lik C je desno od D.
12. Lik D je petkotnik.
13. Lik D je nad E.
14. Lik E je desno od D.
15. Lik B je desno od D.
16. Lik C je nad B.
17. Lik A je desno od B.
18. Lik A je kvadrat.
19. Lik B je petkotnik.
20. Lik E je manjši kot C.

1. svet



2. svet



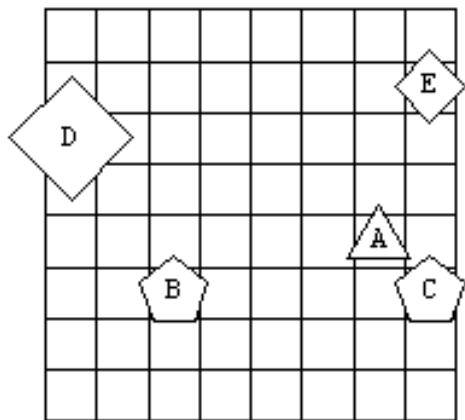
	1	2	3	4	5	6	7	8	9	10	11	12	13	14	15	16	17	18	19	20
1																				
2																				

5.

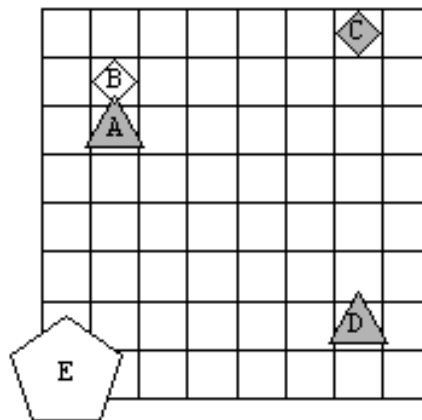
Ugotovi resničnostno vrednost danih stavkov, podanih v 2 svetovih

1. Lik B je pod D.
2. Lik D je večji kot C.
3. Lik E je velik.
4. Lik C je velik.
5. Lik D je srednje velikosti.
6. Lik E je velik.
7. Lik A je manjši kot C.
8. Lik E je srednje velikosti.
9. Lik A je srednje velikosti.
10. Lik C je petkotnik.
11. Lik A je majhen.
12. Lik E je večji kot B.
13. Lik E je trikotnik.
14. Lik B je levo od E.
15. Lik E je srednje velikosti.
16. Lik B je pod E.
17. Lik A je levo od D.
18. Lik E je majhen.
19. Lik A je večji kot B.
20. Lik D je levo od B.

1. svet



2. svet



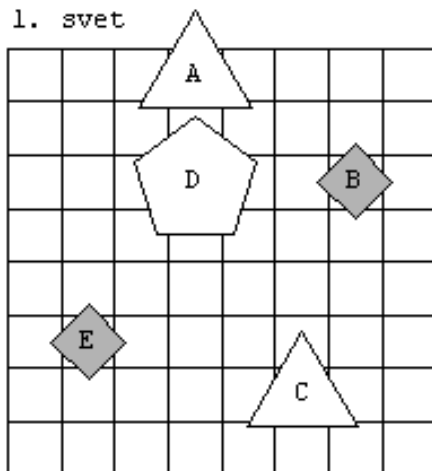
	1	2	3	4	5	6	7	8	9	10	11	12	13	14	15	16	17	18	19	20
1																				
2																				

6.

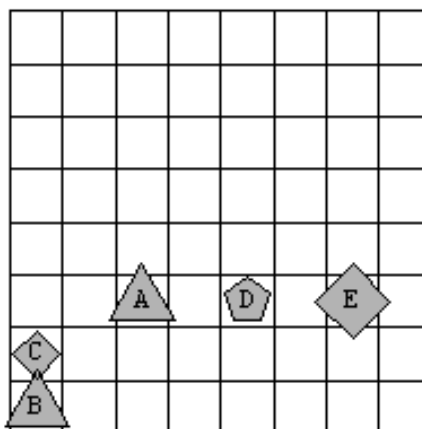
Ugotovi resničnostno vrednost danih stavkov, podanih v 2 svetovih

1. Lik E je siv.
2. Lik D je desno od C.
3. Lik E je desno od A.
4. Lik C je srednje velikosti.
5. Lik C je srednje velikosti.
6. Lik A je velik.
7. Lik B je velik.
8. Lik C je bel.
9. Lik E je petkotnik.
10. Lik A je levo od E.
11. Lik A je pod B.
12. Lik D je srednje velikosti.
13. Lik E je manjši kot C.
14. Lik B je desno od E.
15. Lik E je večji kot D.
16. Lik D je trikotnik.
17. Lik B je večji kot A.
18. Lik D je bel.
19. Lik B je petkotnik.
20. Lik C je petkotnik.

1. svet



2. svet



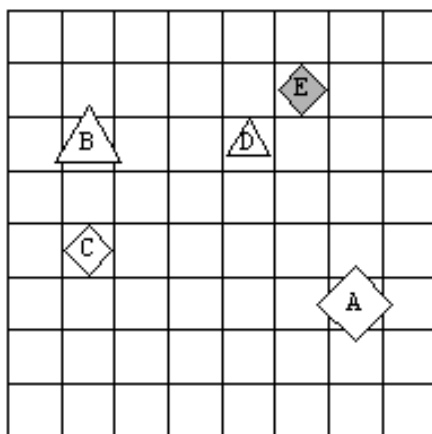
	1	2	3	4	5	6	7	8	9	10	11	12	13	14	15	16	17	18	19	20
1																				
2																				

7.

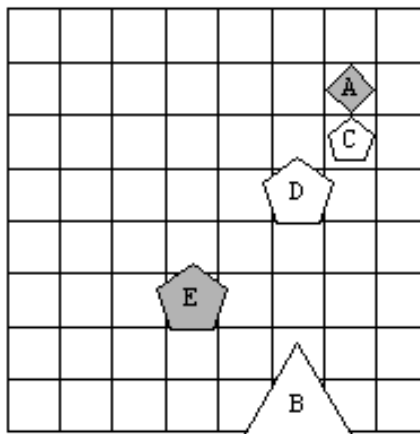
Ugotovi resničnostno vrednost danih stavkov, podanih v 2 svetovih

1. Lik D je trikotnik.
2. Lik D je nad B.
3. Lik C je pod A.
4. Lik C je levo od E.
5. Lik D je majhen.
6. Lik B je nad A.
7. Lik D je manjši kot C.
8. Lik C je manjši kot A.
9. Lik D je petkotnik.
10. Lik C je pod B.
11. Lik C je večji kot A.
12. Lik E je kvadrat.
13. Lik D je nad B.
14. Lik C je siv.
15. Lik E je srednje velikosti.
16. Lik E je nad D.
17. Lik C je večji kot B.
18. Lik B je manjši kot D.
19. Lik D je trikotnik.
20. Lik E je desno od A.

1. svet



2. svet



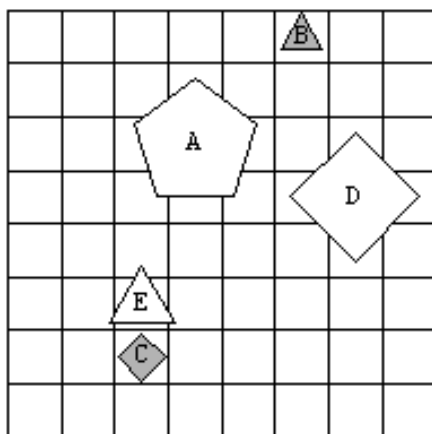
	1	2	3	4	5	6	7	8	9	10	11	12	13	14	15	16	17	18	19	20
1																				
2																				

8.

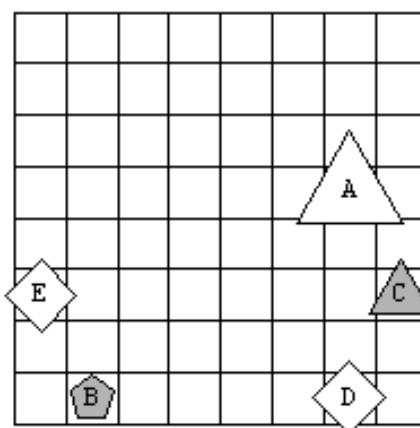
Ugotovi resničnostno vrednost danih stavkov, podanih v 2 svetovih

1. Lik B je večji kot A.
2. Lik E je nad A.
3. Lik D je nad A.
4. Lik E je manjši kot B.
5. Lik B je pod E.
6. Lik C je velik.
7. Lik A je petkotnik.
8. Lik E je srednje velikosti.
9. Lik A je levo od B.
10. Lik E je desno od C.
11. Lik A je srednje velikosti.
12. Lik E je nad D.
13. Lik A je majhen.
14. Lik D je pod E.
15. Lik E je desno od A.
16. Lik E je desno od C.
17. Lik B je nad E.
18. Lik C je velik.
19. Lik C je pod E.
20. Lik D je majhen.

1. svet



2. svet



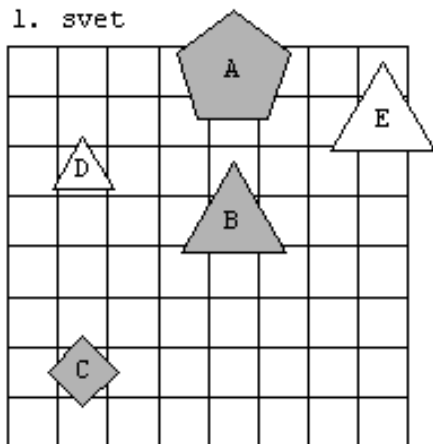
	1	2	3	4	5	6	7	8	9	10	11	12	13	14	15	16	17	18	19	20
1																				
2																				

9.

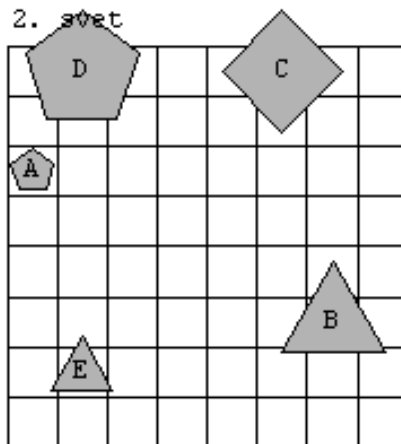
Ugotovi resničnostno vrednost danih stavkov, podanih v 2 svetovih

1. Lik A je nad D.
2. Lik D je levo od E.
3. Lik D je levo od A.
4. Lik E je majhen.
5. Lik E je trikotnik.
6. Lik A je nad B.
7. Lik D je nad C.
8. Lik D je večji kot B.
9. Lik A je kvadrat.
10. Lik A je nad B.
11. Lik C je siv.
12. Lik D je velik.
13. Lik B je pod A.
14. Lik E je pod D.
15. Lik A je večji kot B.
16. Lik E je levo od C.
17. Lik A je pod C.
18. Lik D je levo od A.
19. Lik D je desno od C.
20. Lik E je trikotnik.

1. svet



2. svet

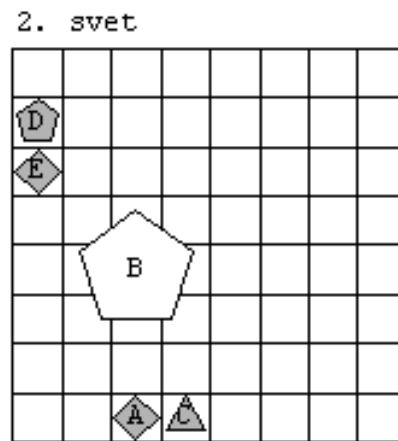
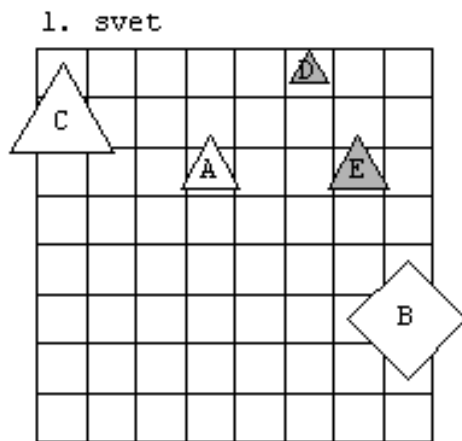


	1	2	3	4	5	6	7	8	9	10	11	12	13	14	15	16	17	18	19	20
1																				
2																				

10.

Ugotovi resničnostno vrednost danih stavkov, podanih v 2 svetovih

1. Lik E je večji kot A.
2. Lik C je petkotnik.
3. Lik B je manjši kot A.
4. Lik C je bel.
5. Lik A je bel.
6. Lik B je trikotnik.
7. Lik C je majhen.
8. Lik C je večji kot D.
9. Lik B je bel.
10. Lik E je manjši kot C.
11. Lik E je majhen.
12. Lik C je srednje velikosti.
13. Lik A je siv.
14. Lik D je večji kot A.
15. Lik D je bel.
16. Lik C je desno od B.
17. Lik B je bel.
18. Lik E je majhen.
19. Lik E je nad C.



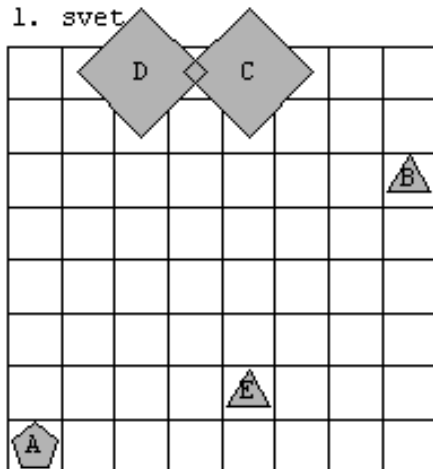
	1	2	3	4	5	6	7	8	9	10	11	12	13	14	15	16	17	18	19	20
1																				
2																				

11.

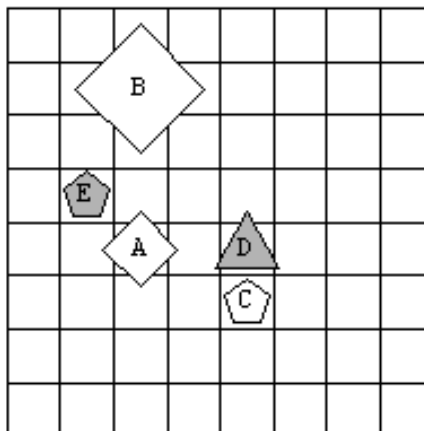
Ugotovi resničnostno vrednost danih stavkov, podanih v 2 svetovih

1. Lik A je desno od C.
2. Lik A je velik.
3. Lik D je velik.
4. Lik B je levo od A.
5. Lik C je petkotnik.
6. Lik B je velik.
7. Lik A je desno od C.
8. Lik E je desno od C.
9. Lik A je desno od D.
10. Lik B je levo od A.
11. Lik D je pod A.
12. Lik D je bel.
13. Lik B je majhen.
14. Lik A je desno od C.
15. Lik B je majhen.
16. Lik D je levo od C.
17. Lik E je desno od A.
18. Lik C je manjši kot B.
19. Lik A je manjši kot B.
20. Lik B je petkotnik.

1. svet



2. svet

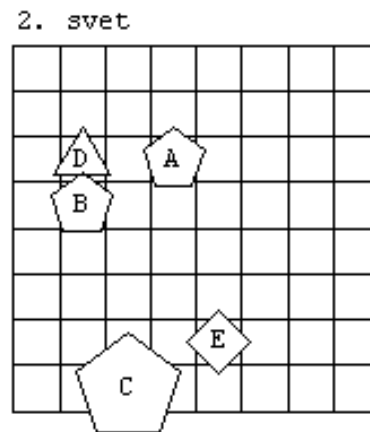
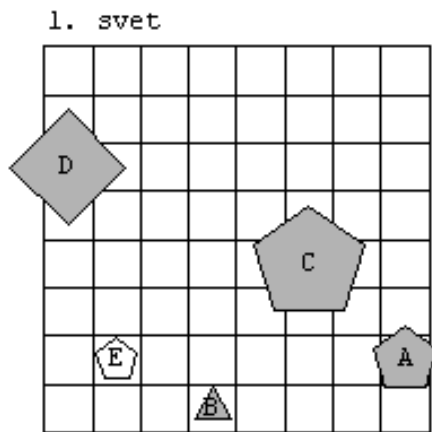


	1	2	3	4	5	6	7	8	9	10	11	12	13	14	15	16	17	18	19	20
1																				
2																				

12.

Ugotovi resničnostno vrednost danih stavkov, podanih v 2 svetovih

1. Lik D je večji kot A.
2. Lik A je petkotnik.
3. Lik A je manjši kot B.
4. Lik A je siv.
5. Lik D je nad B.
6. Lik D je srednje velikosti.
7. Lik B je desno od D.
8. Lik E je bel.
9. Lik A je trikotnik.
10. Lik C je levo od B.
11. Lik C je desno od E.
12. Lik E je srednje velikosti.
13. Lik C je kvadrat.
14. Lik A je levo od B.
15. Lik A je desno od C.
16. Lik E je desno od A.
17. Lik E je nad A.
18. Lik C je nad A.
19. Lik D je večji kot A.
20. Lik C je večji kot A.



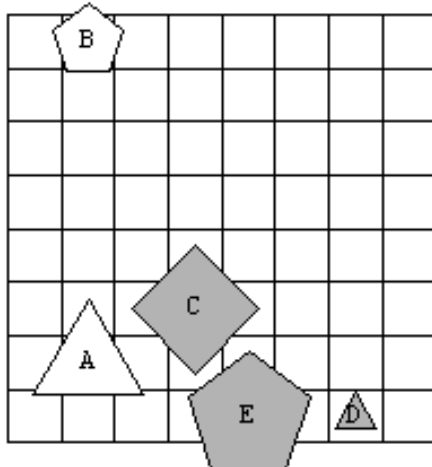
	1	2	3	4	5	6	7	8	9	10	11	12	13	14	15	16	17	18	19	20
1																				
2																				

13.

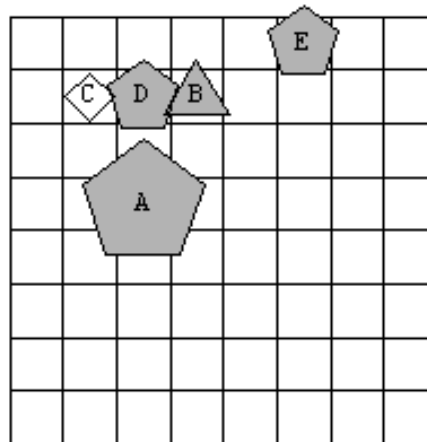
Ugotovi resničnostno vrednost danih stavkov, podanih v 2 svetovih

1. Lik B je petkotnik.
2. Lik B je kvadrat.
3. Lik C je levo od D.
4. Lik A je majhen.
5. Lik B je manjši kot C.
6. Lik B je siv.
7. Lik E je pod B.
8. Lik D je večji kot A.
9. Lik A je srednje velikosti.
10. Lik D je manjši kot B.
11. Lik A je desno od B.
12. Lik C je bel.
13. Lik A je velik.
14. Lik A je nad C.
15. Lik B je desno od A.
16. Lik E je srednje velikosti.
17. Lik E je manjši kot A.
18. Lik A je desno od B.
19. Lik E je manjši kot B.
20. Lik B je pod A.

1. svet



2. svet



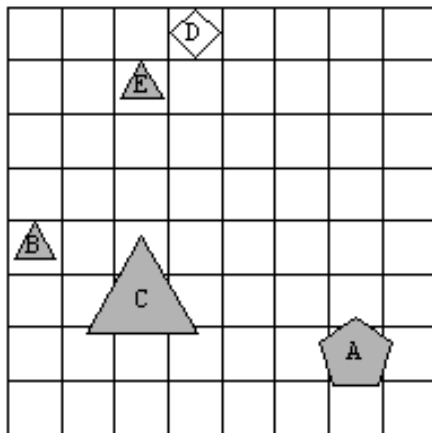
	1	2	3	4	5	6	7	8	9	10	11	12	13	14	15	16	17	18	19	20
1																				
2																				

14.

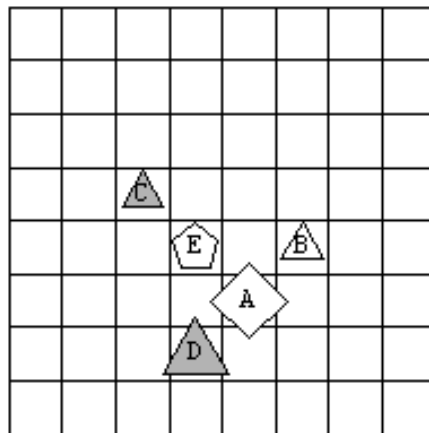
Ugotovi resničnostno vrednost danih stavkov, podanih v 2 svetovih

1. Lik B je večji kot A.
2. Lik B je kvadrat.
3. Lik B je večji kot A.
4. Lik E je pod B.
5. Lik B je desno od E.
6. Lik A je bel.
7. Lik C je petkotnik.
8. Lik C je siv.
9. Lik D je levo od B.
10. Lik C je pod A.
11. Lik A je levo od C.
12. Lik A je petkotnik.
13. Lik E je majhen.
14. Lik C je večji kot D.
15. Lik A je manjši kot B.
16. Lik B je kvadrat.
17. Lik E je pod C.
18. Lik D je majhen.
19. Lik A je nad B.
20. Lik C je kvadrat.

1. svet



2. svet

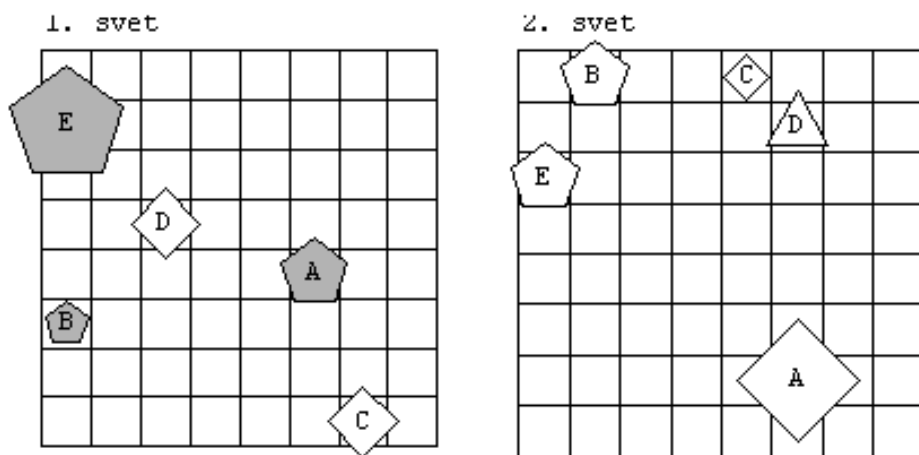


	1	2	3	4	5	6	7	8	9	10	11	12	13	14	15	16	17	18	19	20
1																				
2																				

15.

Ugotovi resničnostno vrednost danih stavkov, podanih v 2 svetovih

1. Lik D je manjši kot B.
2. Lik B je majhen.
3. Lik B je manjši kot D.
4. Lik C je desno od B.
5. Lik A je siv.
6. Lik B je manjši kot D.
7. Lik D je velik.
8. Lik E je srednje velikosti.
9. Lik D je desno od E.
10. Lik B je bel.
11. Lik E je levo od D.
12. Lik A je majhen.
13. Lik A je majhen.
14. Lik B je siv.
15. Lik A je pod C.
16. Lik D je večji kot B.
17. Lik E je srednje velikosti.
18. Lik A je majhen.
19. Lik B je večji kot D.
20. Lik A je nad C.



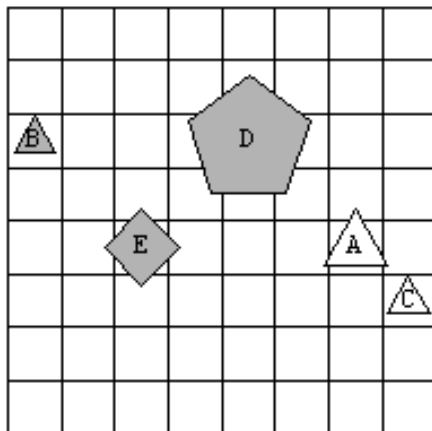
	1	2	3	4	5	6	7	8	9	10	11	12	13	14	15	16	17	18	19	20
1																				
2																				

16.

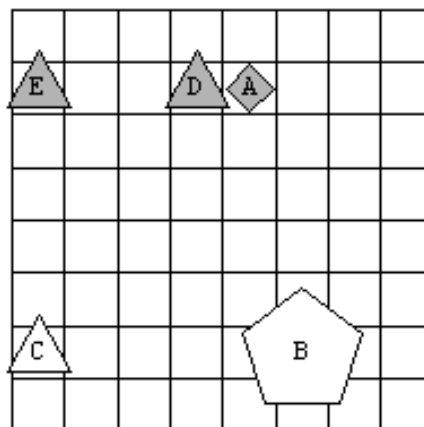
Ugotovi resničnostno vrednost danih stavkov, podanih v 2 svetovih

1. Lik A je levo od D.
2. Lik A je majhen.
3. Lik E je majhen.
4. Lik E je siv.
5. Lik C je pod B.
6. Lik B je velik.
7. Lik C je trikotnik.
8. Lik C je kvadrat.
9. Lik D je bel.
10. Lik C je siv.
11. Lik A je velik.
12. Lik A je manjši kot B.
13. Lik C je nad A.
14. Lik C je nad B.
15. Lik E je levo od B.
16. Lik B je večji kot C.
17. Lik B je levo od D.
18. Lik A je pod C.
19. Lik B je manjši kot A.
20. Lik B je desno od D.

1. svet



2. svet



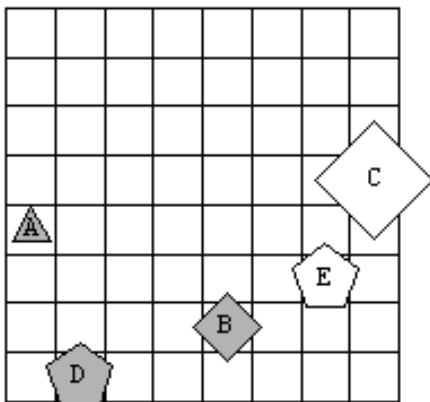
	1	2	3	4	5	6	7	8	9	10	11	12	13	14	15	16	17	18	19	20
1																				
2																				

17.

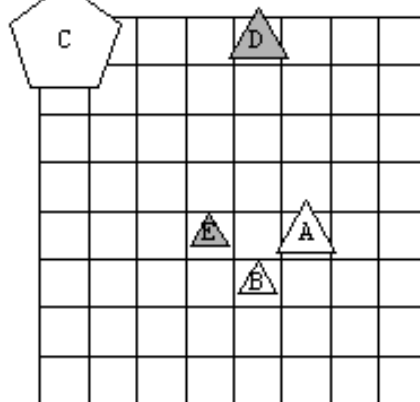
Ugotovi resničnostno vrednost danih stavkov, podanih v 2 svetovih

1. Lik E je večji kot D.
2. Lik E je levo od D.
3. Lik A je levo od C.
4. Lik C je nad B.
5. Lik E je desno od B.
6. Lik E je manjši kot A.
7. Lik C je večji kot D.
8. Lik D je večji kot B.
9. Lik B je trikotnik.
10. Lik A je majhen.
11. Lik C je večji kot A.
12. Lik C je kvadrat.
13. Lik A je siv.
14. Lik D je kvadrat.
15. Lik A je nad E.
16. Lik E je petkotnik.
17. Lik E je trikotnik.
18. Lik A je nad D.
19. Lik A je manjši kot B.
20. Lik E je bel.

1. svet



2. svet

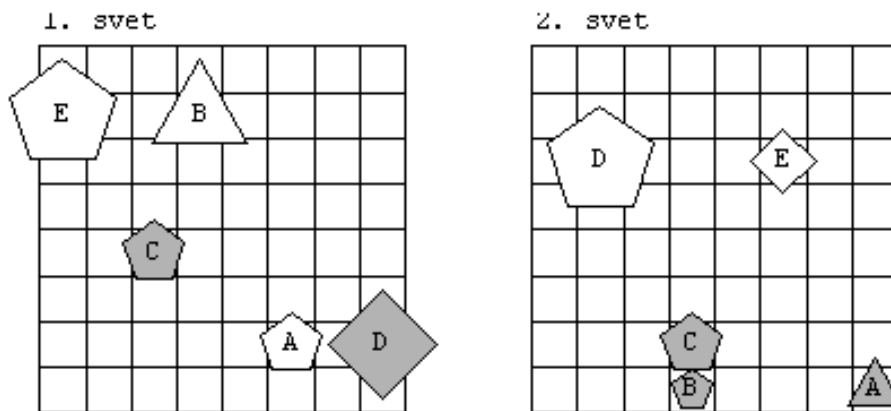


	1	2	3	4	5	6	7	8	9	10	11	12	13	14	15	16	17	18	19	20
1																				
2																				

18.

Ugotovi resničnostno vrednost danih stavkov, podanih v 2 svetovih

1. Lik E je nad A.
2. Lik C je petkotnik.
3. Lik B je majhen.
4. Lik E je velik.
5. Lik A je pod C.
6. Lik B je levo od E.
7. Lik C je večji kot D.
8. Lik B je levo od A.
9. Lik D je majhen.
10. Lik D je velik.
11. Lik C je kvadrat.
12. Lik A je petkotnik.
13. Lik E je levo od A.
14. Lik A je pod E.
15. Lik E je trikotnik.
16. Lik B je večji kot C.
17. Lik D je velik.
18. Lik B je trikotnik.
19. Lik A je petkotnik.
20. Lik C je bel.



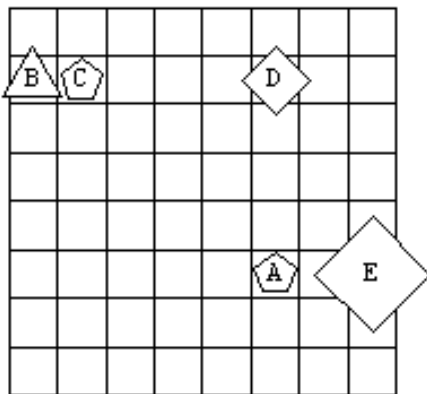
	1	2	3	4	5	6	7	8	9	10	11	12	13	14	15	16	17	18	19	20
1																				
2																				

19.

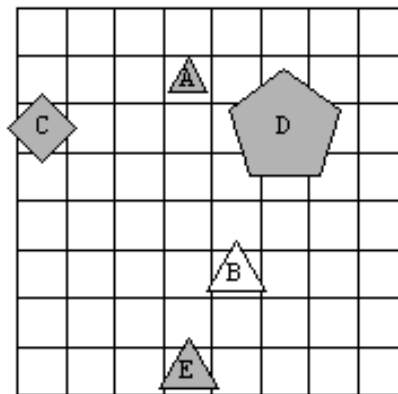
Ugotovi resničnostno vrednost danih stavkov, podanih v 2 svetovih

1. Lik C je siv.
2. Lik A je velik.
3. Lik D je večji kot A.
4. Lik D je velik.
5. Lik A je petkotnik.
6. Lik E je večji kot A.
7. Lik A je desno od C.
8. Lik A je srednje velikosti.
9. Lik D je desno od A.
10. Lik B je nad D.
11. Lik E je srednje velikosti.
12. Lik D je trikotnik.
13. Lik A je večji kot D.
14. Lik E je manjši kot C.
15. Lik D je bel.
16. Lik C je desno od E.
17. Lik D je siv.
18. Lik E je kvadrat.
19. Lik C je levo od A.
20. Lik A je kvadrat.

1. svet



2. svet



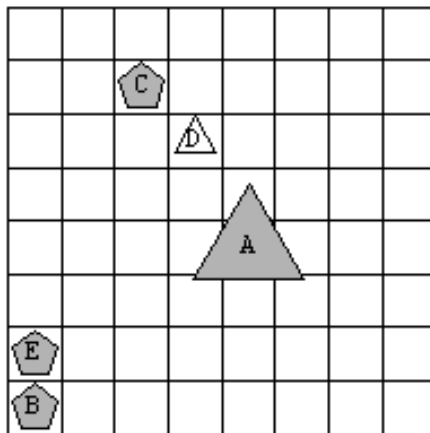
	1	2	3	4	5	6	7	8	9	10	11	12	13	14	15	16	17	18	19	20
1																				
2																				

20.

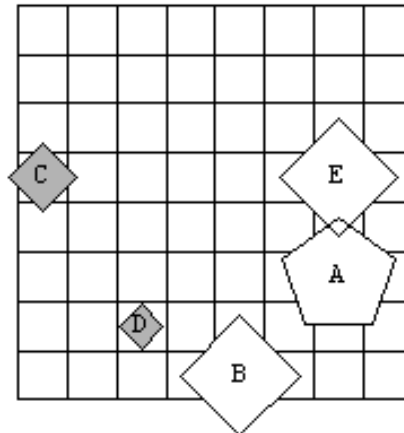
Ugotovi resničnostno vrednost danih stavkov, podanih v 2 svetovih

1. Lik A je pod E.
2. Lik C je nad A.
3. Lik A je nad C.
4. Lik B je levo od D.
5. Lik D je srednje velikosti.
6. Lik D je siv.
7. Lik B je bel.
8. Lik B je majhen.
9. Lik A je trikotnik.
10. Lik D je manjši kot C.
11. Lik B je manjši kot C.
12. Lik E je nad B.
13. Lik A je večji kot D.
14. Lik B je srednje velikosti.
15. Lik C je majhen.
16. Lik B je levo od C.
17. Lik A je trikotnik.
18. Lik E je pod C.
19. Lik D je manjši kot C.
20. Lik D je kvadrat.

1. svet



2. svet



	1	2	3	4	5	6	7	8	9	10	11	12	13	14	15	16	17	18	19	20
1																				
2																				

REŠITVE

1.

	1	2	3	4	5	6	7	8	9	10	11	12	13	14	15	16	17	18	19	20
1	N	N	N	R	R	R	N	R	R	R	N	N	N	R	R	N	N	N	R	R
2	N	N	R	R	N	N	R	R	N	N	N	N	N	R	N	N	N	R	R	N

2.

	1	2	3	4	5	6	7	8	9	10	11	12	13	14	15	16	17	18	19	20
1	N	R	N	N	R	N	N	N	N	R	R	R	N	N	N	N	N	N	N	N
2	R	N	R	R	R	N	R	R	R	N	N	N	R	R	R	R	R	R	R	R

3.

	1	2	3	4	5	6	7	8	9	10	11	12	13	14	15	16	17	18	19	20
1	N	N	N	R	R	N	N	R	R	N	N	R	R	N	N	N	N	N	N	N
2	N	N	R	R	N	N	N	R	N	N	R	N	N	N	N	R	N	R	N	N

4.

	1	2	3	4	5	6	7	8	9	10	11	12	13	14	15	16	17	18	19	20
1	R	N	N	R	R	N	R	N	R	N	R	N	R	N	N	N	R	R	R	N
2	N	N	N	R	R	N	R	R	N	N	R	R	R	R	N	N	R	N	N	N

5.

	1	2	3	4	5	6	7	8	9	10	11	12	13	14	15	16	17	18	19	20
1	R	R	N	N	N	N	N	R	R	R	N	N	N	R	R	R	N	N	N	R
2	N	R	R	N	R	R	N	N	R	N	N	R	N	N	N	N	R	N	R	N

6.

	1	2	3	4	5	6	7	8	9	10	11	12	13	14	15	16	17	18	19	20
1	R	N	N	N	N	R	N	R	N	N	N	N	R	R	N	N	N	R	N	N
2	R	R	R	N	N	N	N	N	N	R	N	N	N	N	R	N	N	N	N	N

7.

	1	2	3	4	5	6	7	8	9	10	11	12	13	14	15	16	17	18	19	20
1	R	N	N	R	R	R	N	R	N	R	N	R	N	N	N	R	N	N	R	N
2	N	R	R	N	N	N	N	N	R	N	N	N	R	N	R	N	N	N	N	N

8.

	1	2	3	4	5	6	7	8	9	10	11	12	13	14	15	16	17	18	19	20
1	N	N	N	N	N	N	R	R	R	N	N	N	N	N	N	N	R	N	R	N
2	N	N	N	N	R	N	N	R	N	N	N	R	N	R	N	N	N	N	N	N

9.

	1	2	3	4	5	6	7	8	9	10	11	12	13	14	15	16	17	18	19	20
1	R	R	R	N	R	R	R	N	N	R	R	N	R	N	N	N	N	R	N	R
2	N	N	N	N	R	R	N	N	N	R	R	R	R	R	N	R	R	N	N	R

10.

	1	2	3	4	5	6	7	8	9	10	11	12	13	14	15	16	17	18	19	20
1	N	N	N	R	R	N	N	R	R	R	N	N	N	N	N	N	R	N	N	N
2	N	N	N	N	N	N	R	N	R	N	R	N	R	N	N	R	R	R	R	R



11.

	1	2	3	4	5	6	7	8	9	10	11	12	13	14	15	16	17	18	19	20
1	N	N	R	N	N	N	N	N	N	N	N	N	R	N	R	R	R	N	N	N
2	N	N	N	N	R	R	N	N	N	N	N	N	N	N	N	N	N	R	R	N

12.

	1	2	3	4	5	6	7	8	9	10	11	12	13	14	15	16	17	18	19	20
1	R	R	N	R	R	N	R	R	N	N	R	N	N	N	R	N	N	R	R	R
2	N	R	N	N	R	R	N	R	N	N	N	R	N	N	R	R	N	N	N	R

13.

	1	2	3	4	5	6	7	8	9	10	11	12	13	14	15	16	17	18	19	20
1	R	N	R	N	R	N	R	N	N	R	N	N	R	N	N	N	N	N	N	N
2	N	N	R	N	N	R	N	N	N	N	N	R	R	N	R	R	R	N	N	N

14.

	1	2	3	4	5	6	7	8	9	10	11	12	13	14	15	16	17	18	19	20
1	N	N	N	N	N	N	N	R	N	N	N	R	R	R	N	N	N	R	N	N
2	N	N	N	N	R	R	N	R	R	N	N	N	R	N	N	N	R	N	N	N

15.

	1	2	3	4	5	6	7	8	9	10	11	12	13	14	15	16	17	18	19	20
1	N	R	R	R	R	R	N	N	R	N	R	N	N	R	N	R	N	N	N	R
2	N	N	N	R	N	N	N	R	R	R	R	N	N	N	R	N	R	N	N	N

16.

	1	2	3	4	5	6	7	8	9	10	11	12	13	14	15	16	17	18	19	20
1	N	N	N	R	R	N	R	N	N	N	N	N	N	N	N	N	R	N	R	N
2	N	R	N	R	N	R	R	N	N	N	N	R	N	N	R	R	N	N	N	R

17.

	1	2	3	4	5	6	7	8	9	10	11	12	13	14	15	16	17	18	19	20
1	N	N	R	R	R	N	R	N	N	R	R	R	R	N	R	R	N	R	R	R
2	N	R	N	R	N	R	R	R	R	N	R	N	N	N	N	N	R	N	N	N

18.

	1	2	3	4	5	6	7	8	9	10	11	12	13	14	15	16	17	18	19	20
1	R	R	N	R	R	N	N	R	N	R	N	R	R	R	N	R	R	R	R	N
2	R	R	R	N	R	R	N	R	N	R	N	N	R	R	N	N	R	N	N	N

19.

	1	2	3	4	5	6	7	8	9	10	11	12	13	14	15	16	17	18	19	20
1	N	N	R	N	R	R	R	N	N	N	N	N	N	N	R	N	N	R	R	N
2	R	N	R	R	N	R	R	N	R	N	R	N	N	N	N	N	R	N	R	N

20.

	1	2	3	4	5	6	7	8	9	10	11	12	13	14	15	16	17	18	19	20
1	N	R	N	R	N	N	N	R	R	N	N	R	R	N	R	R	R	R	N	N
2	R	R	N	N	N	R	R	N	N	R	N	R	R	N	N	N	N	N	R	R