

MATHEMA

MOSTOVI

7×7

LAHKI



VAJE PRI TEKMOVANJU ZA PRIZNANJE
LOGIČNE POŠASTI

5. IN 6. RAZRED

VIR: [HTTP://WWW.PUZZLE-DOMINOSA.COM](http://www.puzzle-dominosa.com)

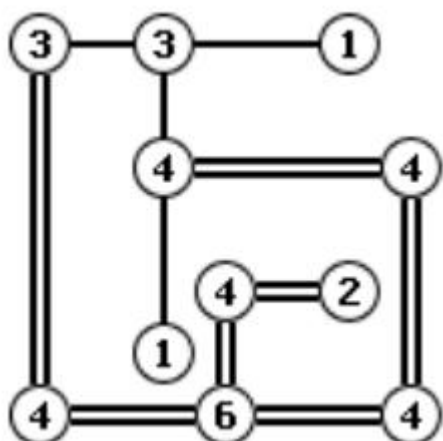


MATHEMA
www.mathema.si

NAVODILA:

Z otočkov (krogcev) je potrebno narisati toliko mostov do drugih otočkov, kolikor je število na otočku. Z otoka gresta lahko v vsako smer največ 2 mostova. Mostovi se ne smejo križati., potekajo lahko le vodoravno ali navpično. Povezani morajo biti vsi otoki.


ZGLED:




VAJE SO BREZ REŠITEV.



MATHEMA
www.mathema.si





<p> ② ⑤ ① ④ ⑧ ④ ④ ① ③ ③ ③ ④ </p>	<p> ③ ③ ③ ② ③ ② ③ ③ ② </p>
<p> ④ ③ ② ② ⑥ ⑦ ④ ② ④ ② ① ④ ④ ③ </p>	<p> ② ③ ③ ⑤ ③ ② ② ② ② ① ② ④ ⑥ ③ </p>
<p> ① ③ ⑤ ③ ② ① ① ④ ② ④ ⑥ ④ </p>	<p> ③ ② ③ ④ ⑤ ③ ③ ④ ① ④ ⑥ ③ ③ ③ ③ </p>



