

MATHEMA

OBRATNI SVET TARSKEGA

4 LIKI

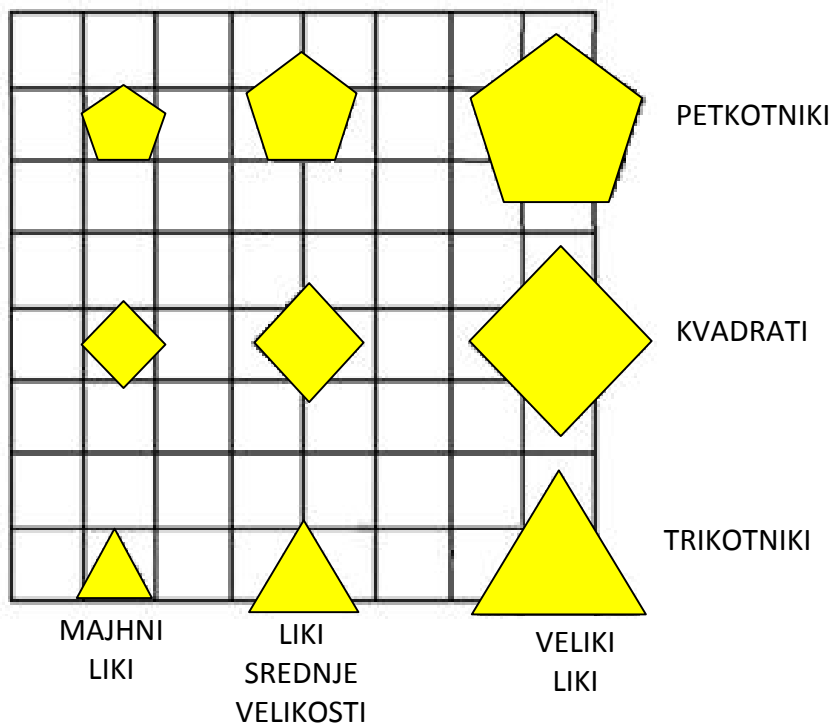


VAJE PRI TEKMOVANJU ZA PRIZNANJE
LOGIČNE POŠASTI

5. IN 6. RAZRED

SVET:

Sestavljajo ga liki različnih barv, velikosti in oblik.



NAVODILA:

Ugotovi imena likov, če poznaš vrednosti stavkov v danem svetu, ki so podani v spodnji tabeli.

ZGLED:

NALOGA:

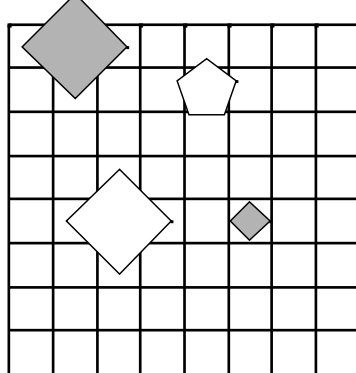
STAVKI:

1. Lik B je pod D.
2. Lik A je levo od B.
3. Lik D je kvadrat.
4. Lik B je majhen.
5. Lik B je trikotnik

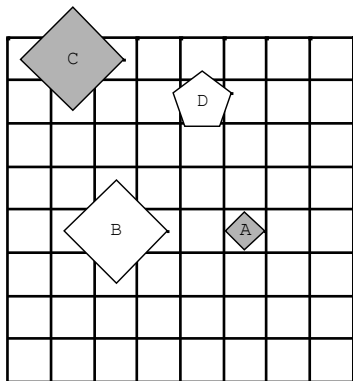
VREDNOST STAVKOV:

	1	2	3	4	5
1	R	N	N	N	N

SVET:



REŠITEV:



REŠITVE NALOG SO NA STRANI 16.

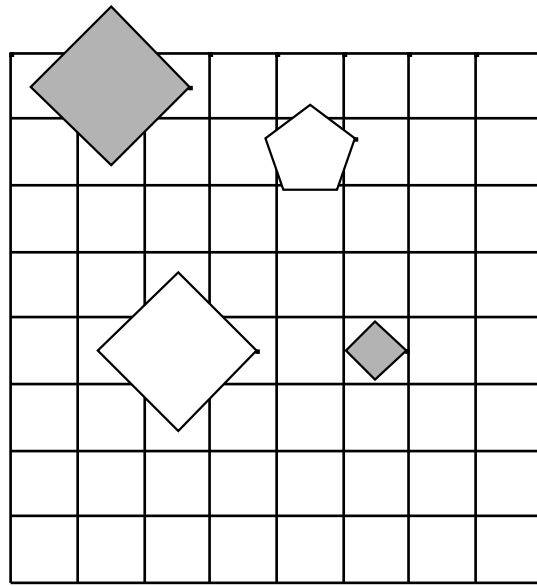


NALOGE:

1.

1. Lik B je pod D.
2. Lik A je levo od B.
3. Lik D je kvadrat.
4. Lik B je majhen.
5. Lik B je trikotnik.

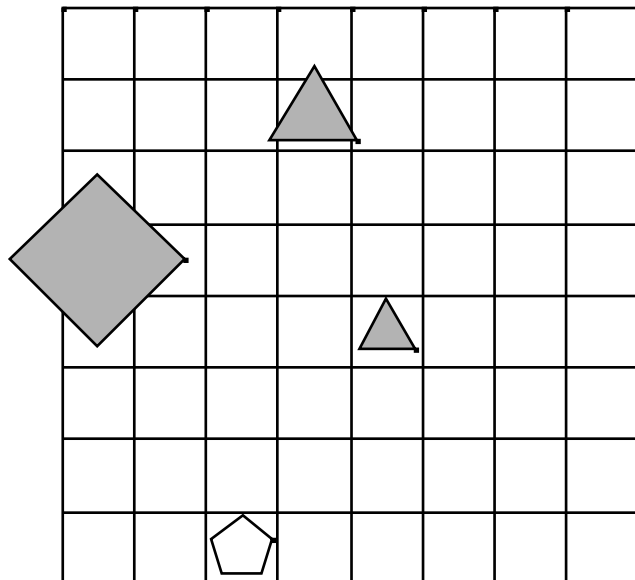
	1	2	3	4	5
1	R	N	N	N	N



2.

1. Lik D je srednje velikosti.
2. Lik B je večji kot C.
3. Lik B je levo od D.
4. Lik A je desno od D.
5. Lik B je levo od C.

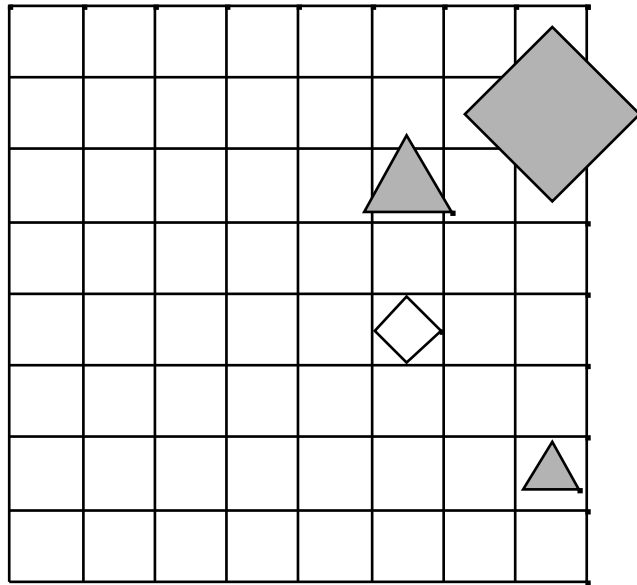
	1	2	3	4	5
1	N	N	R	N	R



3.

1. Lik C je srednje velikosti.
2. Lik A je nad B.
3. Lik B je majhen.
4. Lik B je desno od C.
5. Lik B je kvadrat.

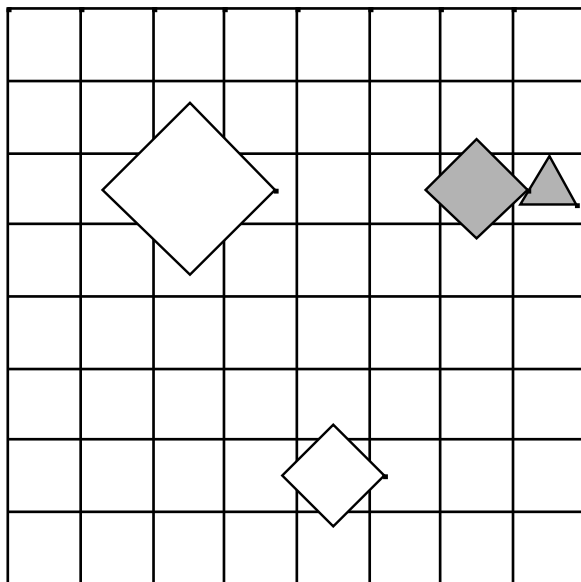
	1	2	3	4	5
1	R	R	R	N	R



4.

1. Lik A je bel.
2. Lik D je majhen.
3. Lik A je manjši kot B.
4. Lik D je majhen.
5. Lik A je nad B.

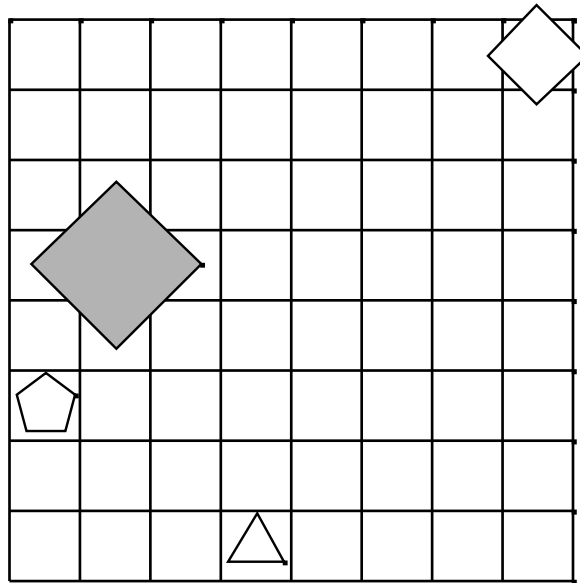
	1	2	3	4	5
1	R	R	R	R	N



5.

1. Lik B je petkotnik.
2. Lik C je pod D.
3. Lik B je velik.
4. Lik C je desno od D.
5. Lik B je manjši kot C.

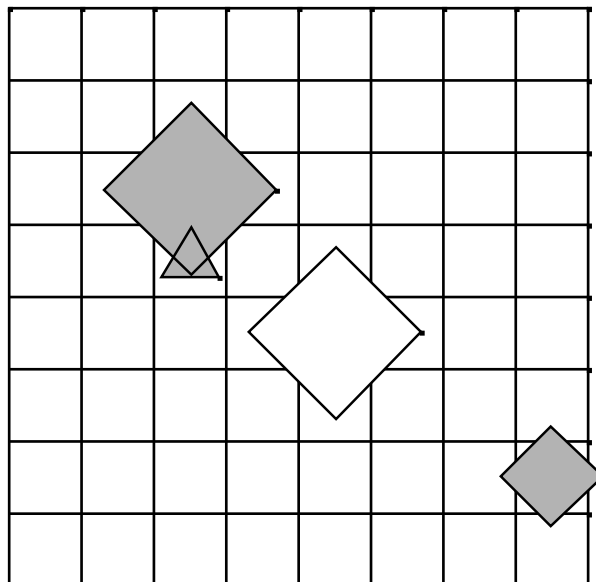
	1	2	3	4	5
1	N	N	N	N	N



6.

1. Lik A je pod B.
2. Lik A je levo od C.
3. Lik D je velik.
4. Lik A je desno od C.
5. Lik C je majhen.

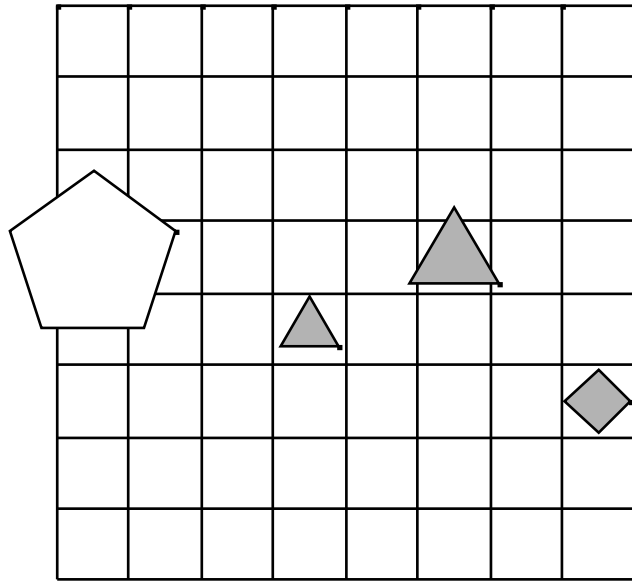
	1	2	3	4	5
1	N	N	R	N	N



7.

1. Lik C je srednje velikosti.
2. Lik B je večji kot C.
3. Lik D je velik.
4. Lik A je bel.
5. Lik B je trikotnik.

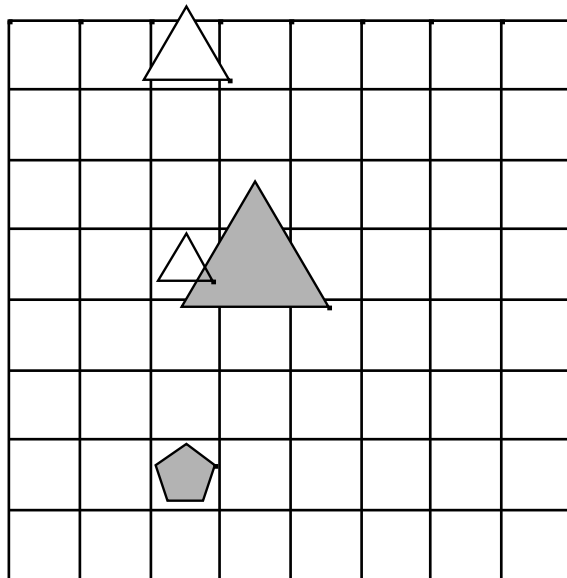
	1	2	3	4	5
1	N	N	R	N	N



8.

1. Lik B je večji kot C.
2. Lik B je siv.
3. Lik B je petkotnik.
4. Lik D je siv.
5. Lik C je nad D.

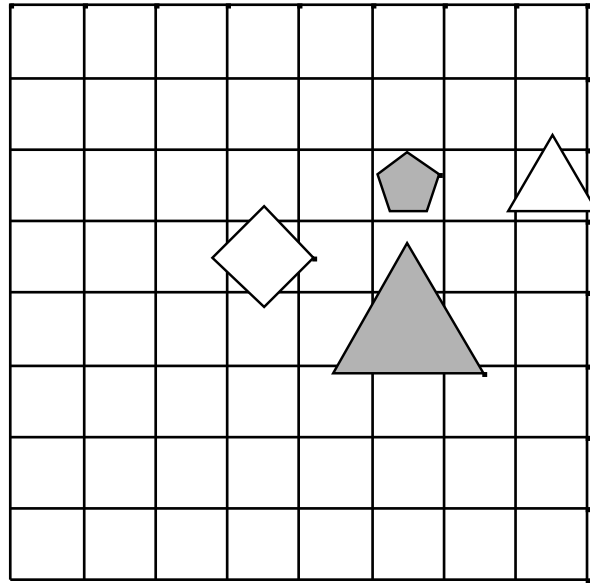
	1	2	3	4	5
1	N	N	N	R	N



9.

1. Lik B je pod D.
2. Lik B je petkotnik.
3. Lik A je desno od B.
4. Lik C je manjši kot D.
5. Lik A je siv.

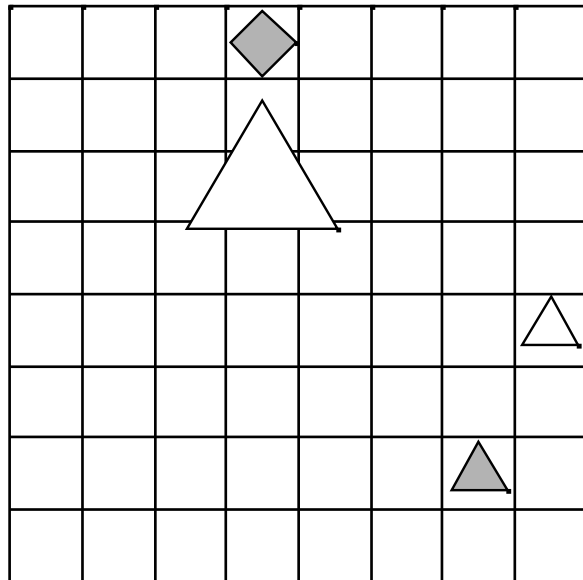
	1	2	3	4	5
1	N	N	R	R	N



10.

1. Lik B je siv.
2. Lik A je levo od C.
3. Lik C je pod D.
4. Lik B je siv.
5. Lik A je velik.

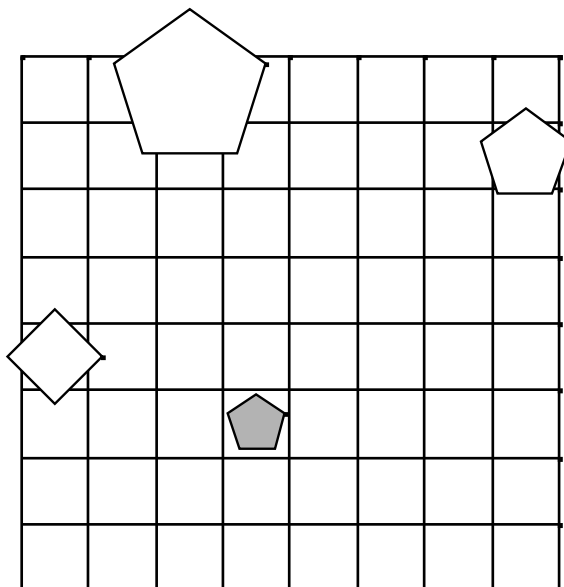
	1	2	3	4	5
1	R	N	N	R	R



11.

1. Lik A je trikotnik.
2. Lik C je siv.
3. Lik A je desno od B.
4. Lik A je manjši kot B.
5. Lik A je desno od C.

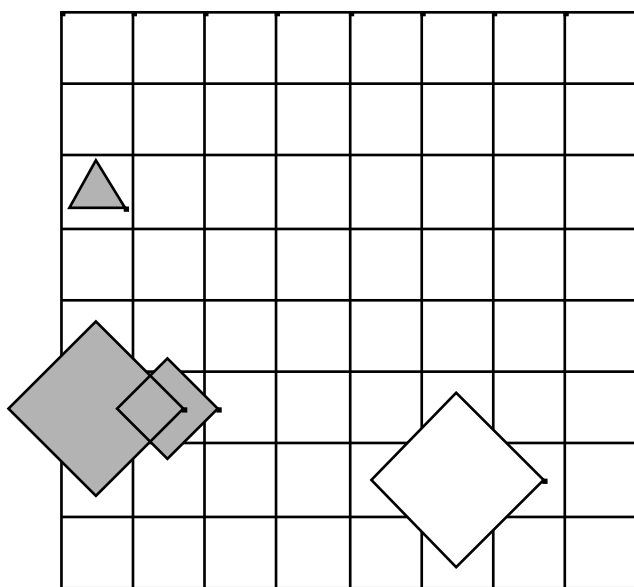
	1	2	3	4	5
1	N	N	N	R	N



12.

1. Lik C je petkotnik.
2. Lik C je nad D.
3. Lik C je levo od D.
4. Lik B je večji kot C.
5. Lik C je manjši kot D.

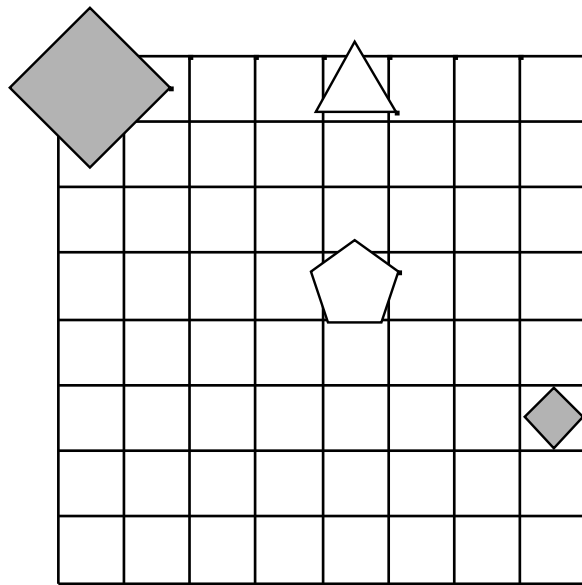
	1	2	3	4	5
1	N	N	N	R	R



13.

1. Lik B je levo od C.
2. Lik C je srednje velikosti.
3. Lik A je srednje velikosti.
4. Lik A je petkotnik.
5. Lik A je večji kot D.

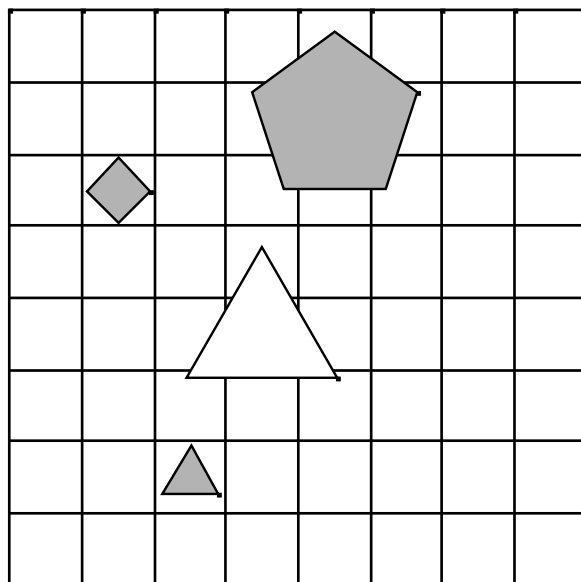
	1	2	3	4	5
1	N	R	R	R	N



14.

1. Lik D je trikotnik.
2. Lik A je levo od B.
3. Lik C je majhen.
4. Lik C je trikotnik.
5. Lik B je velik.

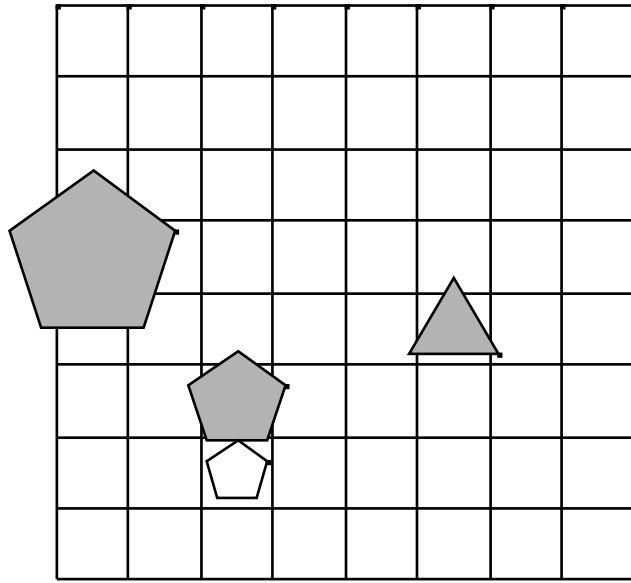
	1	2	3	4	5
1	R	R	N	N	N



15.

1. Lik A je desno od D.
2. Lik D je siv.
3. Lik C je majhen.
4. Lik B je desno od D.
5. Lik A je bel.

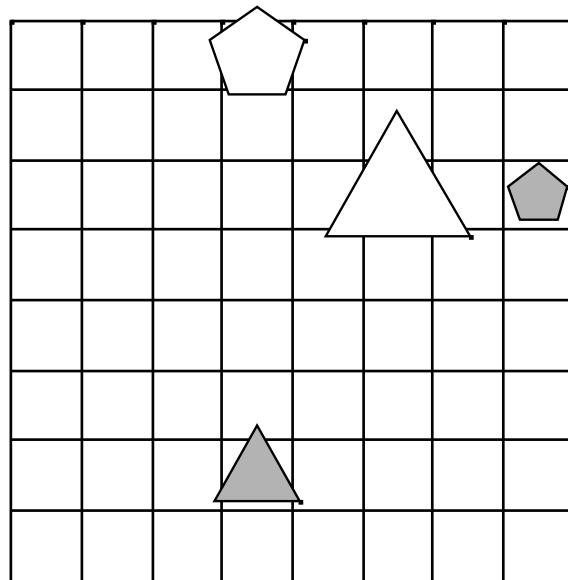
	1	2	3	4	5
1	N	R	N	R	R



16.

1. Lik C je trikotnik.
2. Lik A je majhen.
3. Lik A je večji kot B.
4. Lik B je trikotnik.
5. Lik C je manjši kot D.

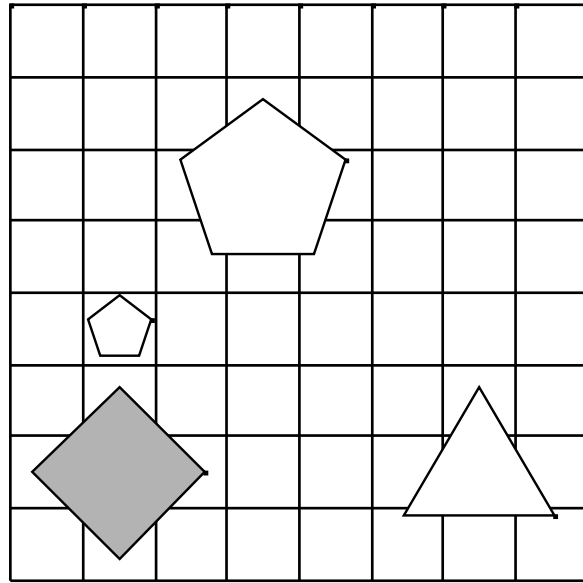
	1	2	3	4	5
1	R	N	R	N	R



17.

1. Lik A je levo od C.
2. Lik B je nad D.
3. Lik C je nad D.
4. Lik B je levo od C.
5. Lik A je večji kot C.

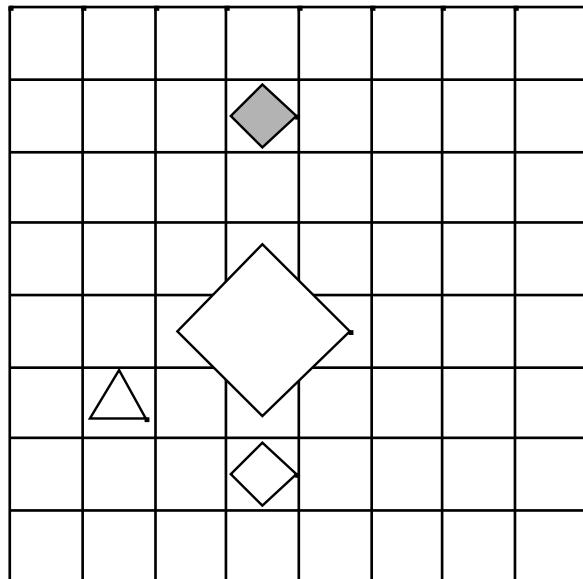
	1	2	3	4	5
1	N	N	R	R	N



18.

1. Lik A je pod C.
2. Lik B je siv.
3. Lik A je levo od C.
4. Lik C je majhen.
5. Lik C je trikotnik.

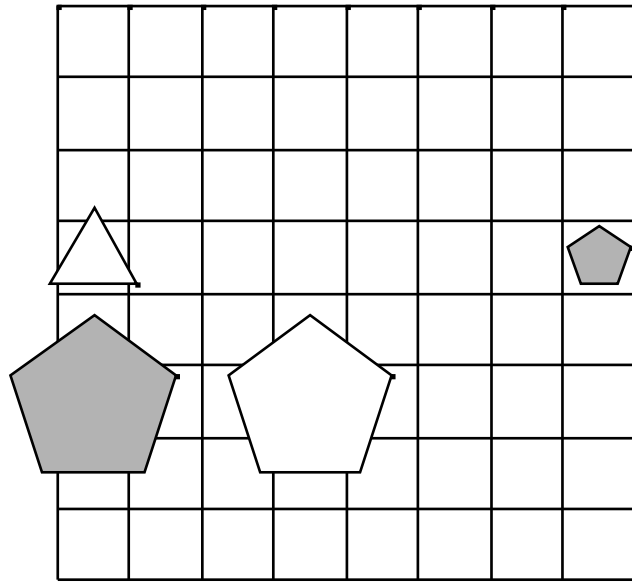
	1	2	3	4	5
1	R	N	N	N	N



19.

1. Lik A je pod B.
2. Lik A je desno od B.
3. Lik A je velik.
4. Lik C je majhen.
5. Lik B je siv.

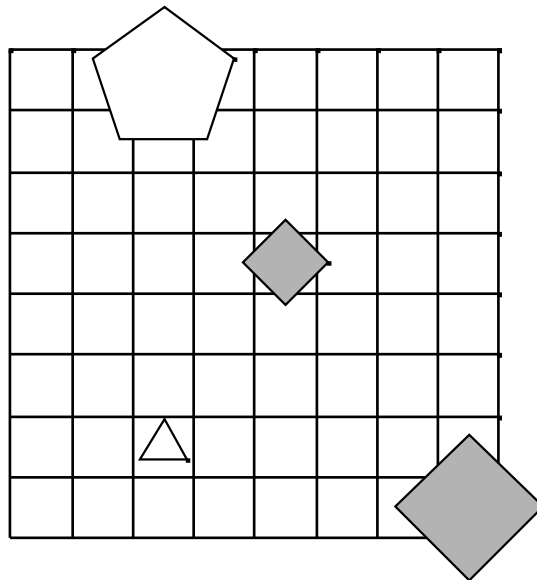
	1	2	3	4	5
1	N	N	N	R	N



20.

1. Lik B je srednje velikosti.
2. Lik A je pod C.
3. Lik A je večji kot C.
4. Lik C je levo od D.
5. Lik C je velik.

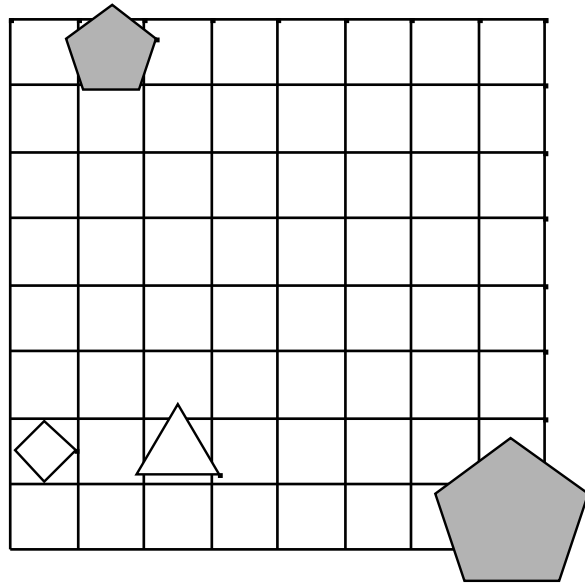
	1	2	3	4	5
1	N	R	N	N	N



21.

1. Lik B je bel.
2. Lik C je velik.
3. Lik A je bel.
4. Lik A je srednje velikosti.
5. Lik C je srednje velikosti.

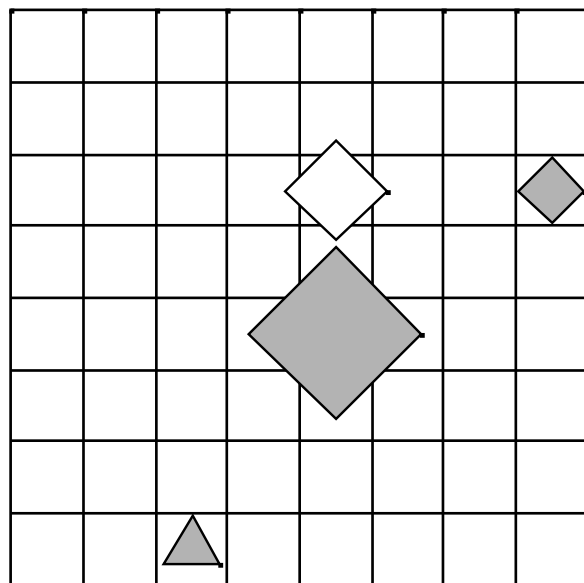
	1	2	3	4	5
1	R	R	R	N	N



22.

1. Lik C je večji kot D.
2. Lik C je srednje velikosti.
3. Lik B je večji kot D.
4. Lik D je srednje velikosti.
5. Lik B je desno od C.

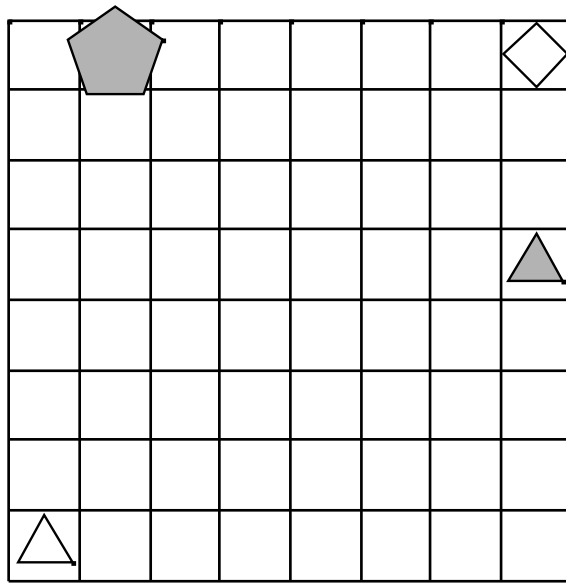
	1	2	3	4	5
1	R	N	N	R	R



23.

1. Lik C je srednje velikosti.
2. Lik A je trikotnik.
3. Lik A je levo od B.
4. Lik C je srednje velikosti.
5. Lik B je trikotnik.

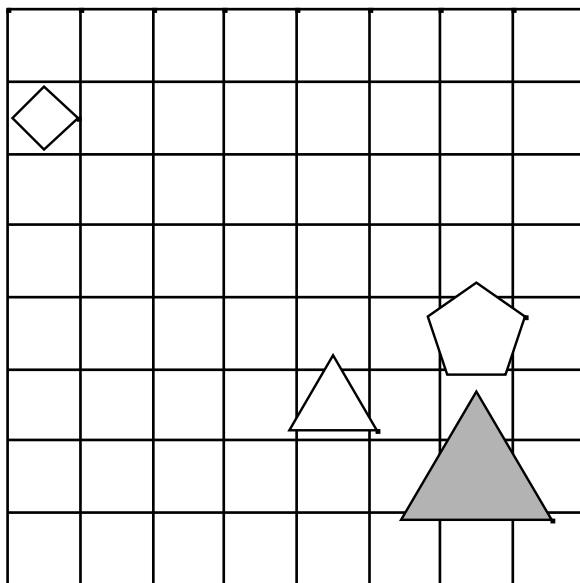
	1	2	3	4	5
1	R	R	R	R	R



24.

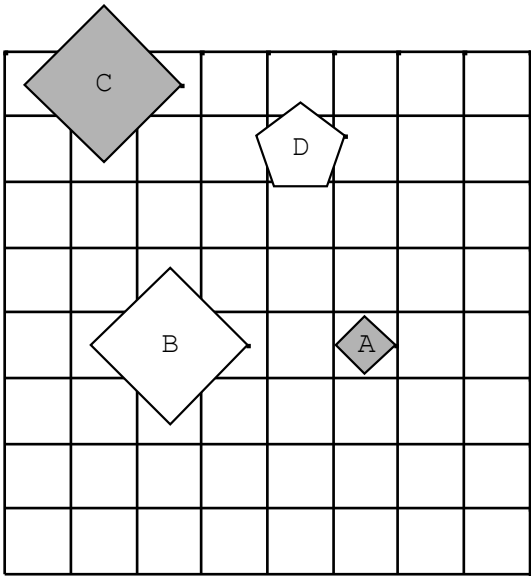
1. Lik A je desno od D.
2. Lik B je večji kot D.
3. Lik D je velik.
4. Lik A je desno od C.
5. Lik A je manjši kot B.

	1	2	3	4	5
1	N	R	N	R	R

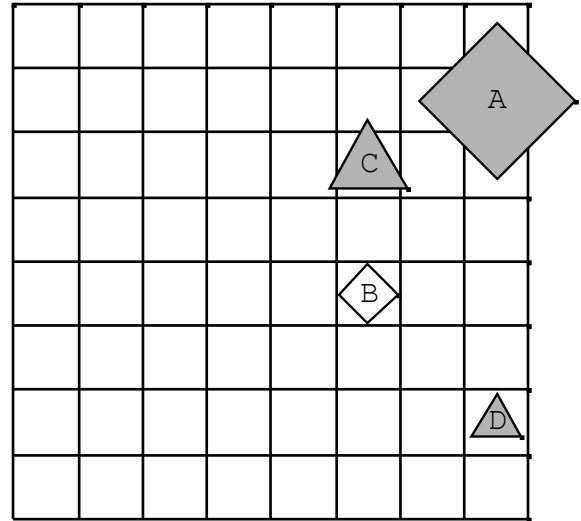


REŠITVE

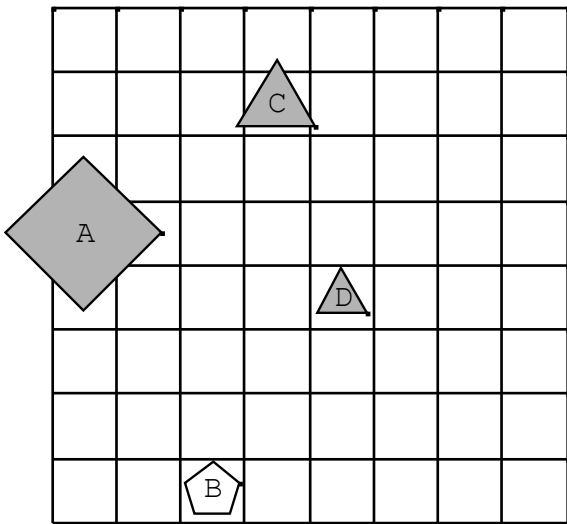
1.



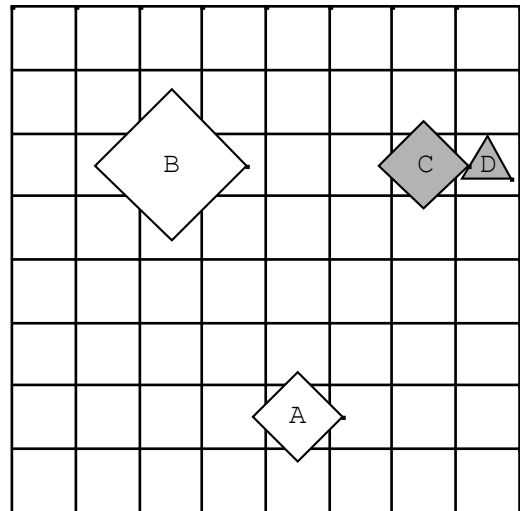
3.



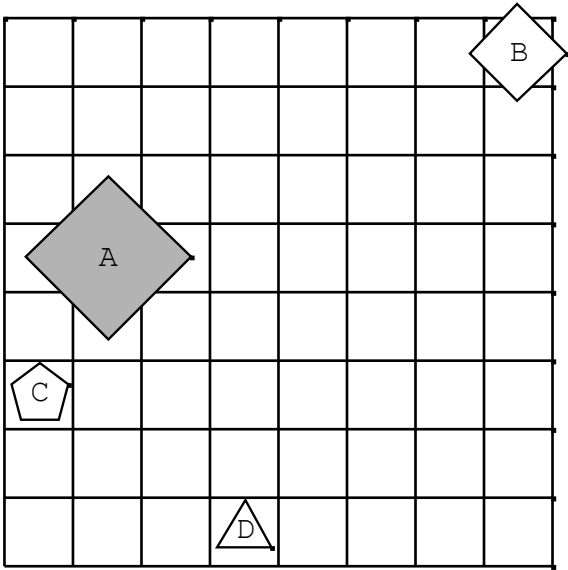
2.



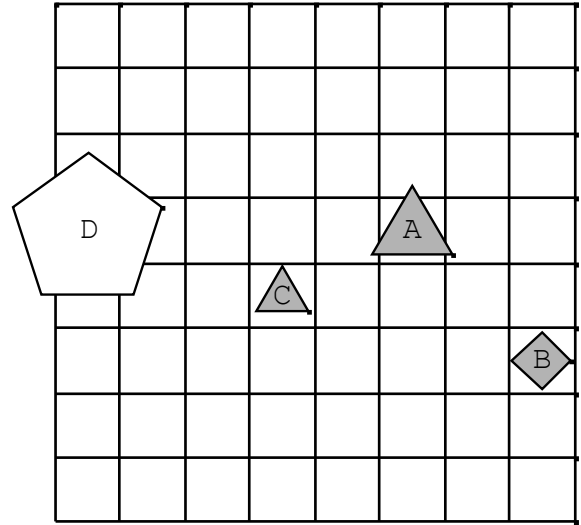
4.



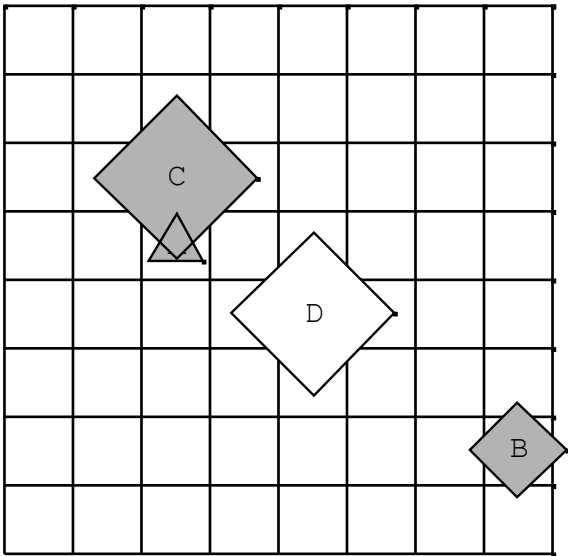
5.



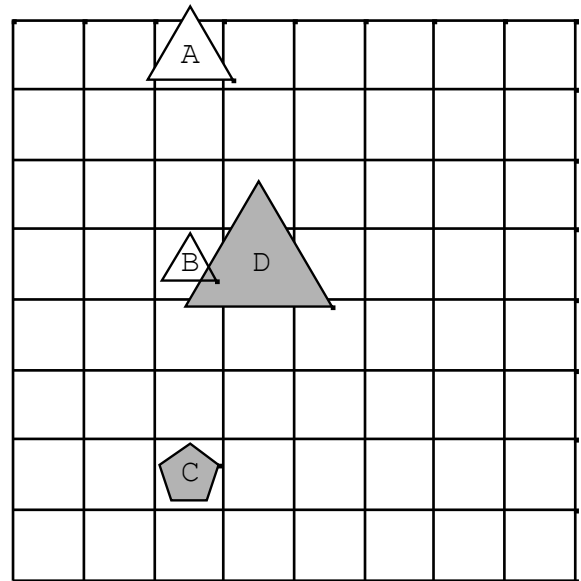
7.



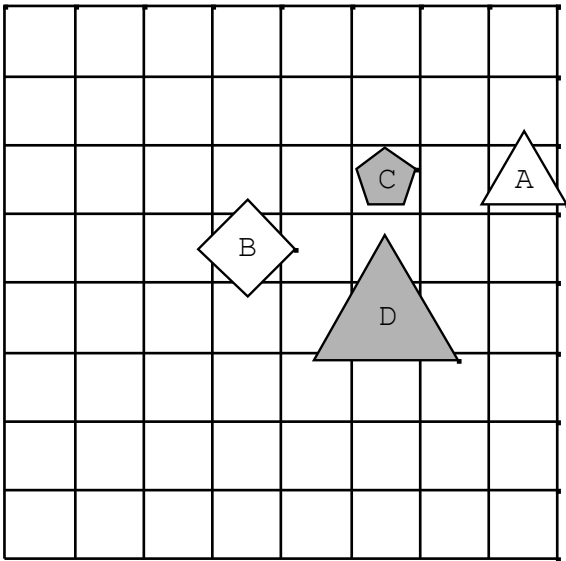
6.



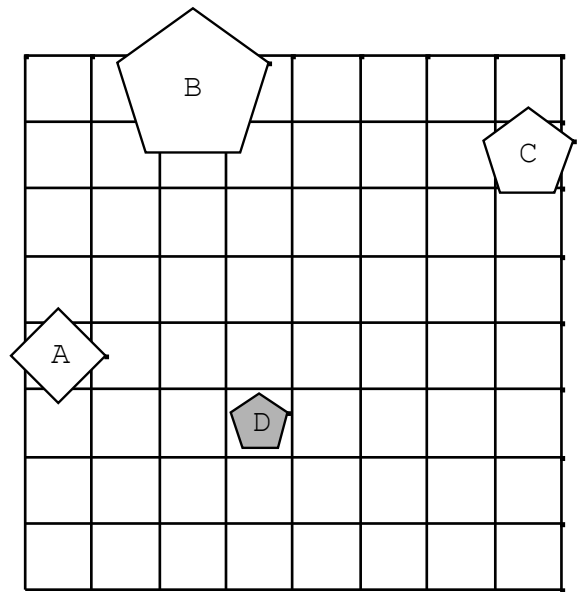
8.



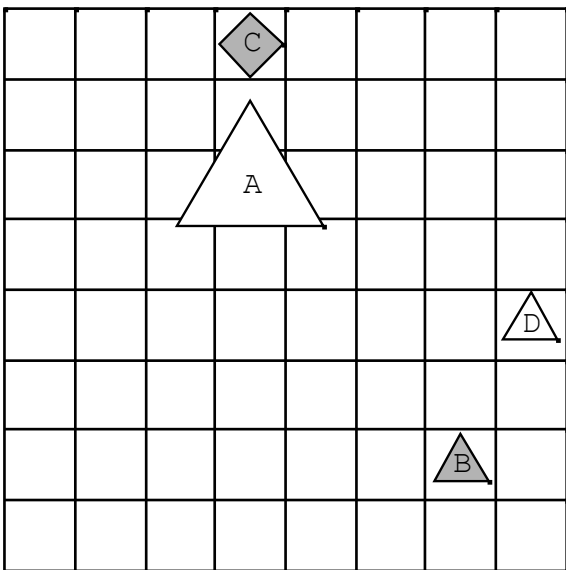
9.



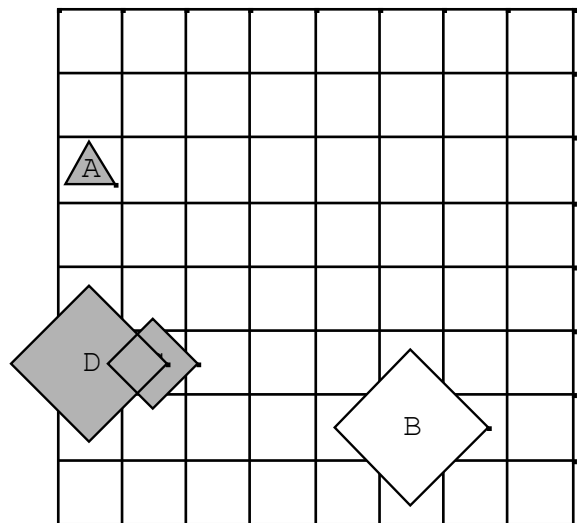
11.



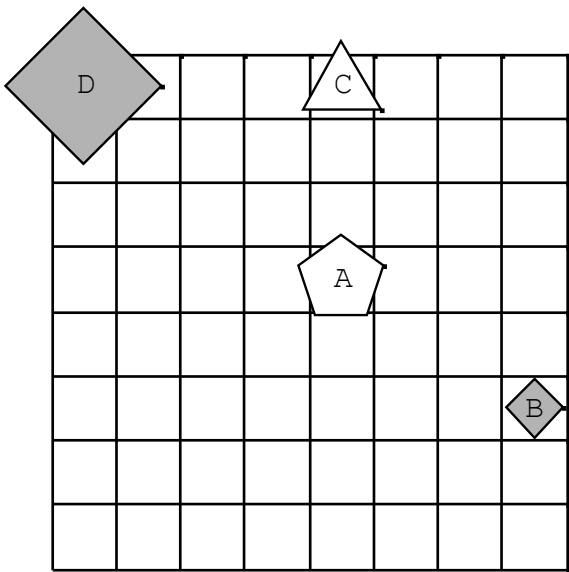
10.



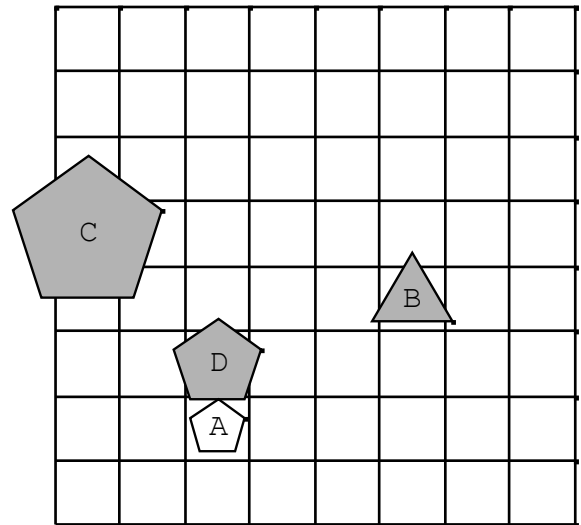
12.



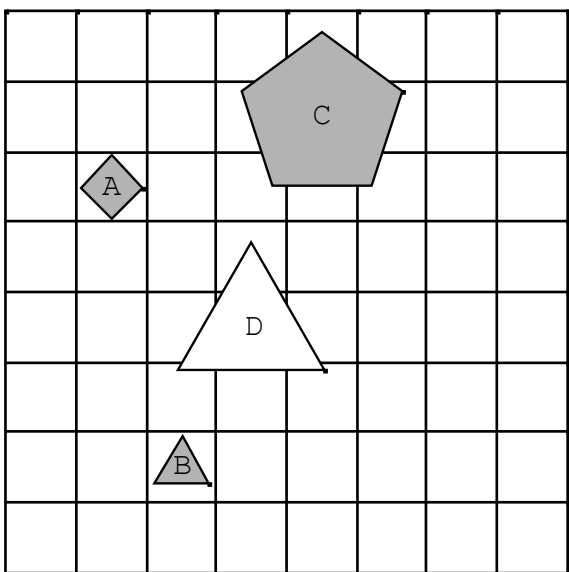
13.



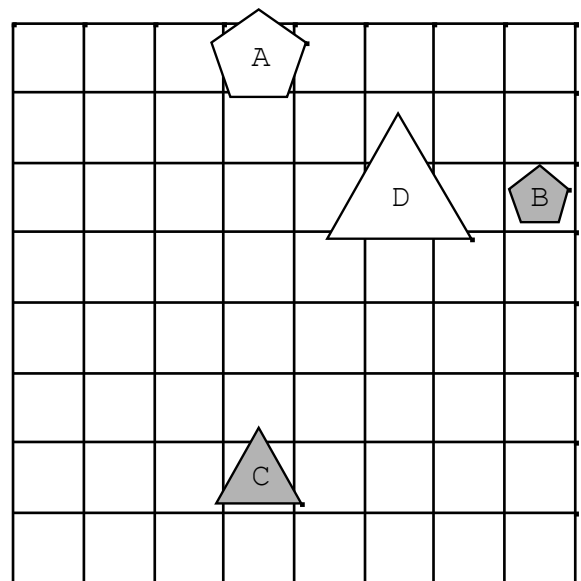
15.



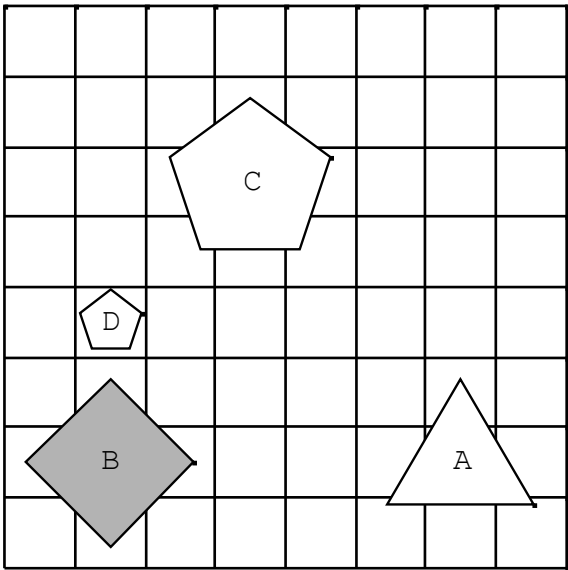
14.



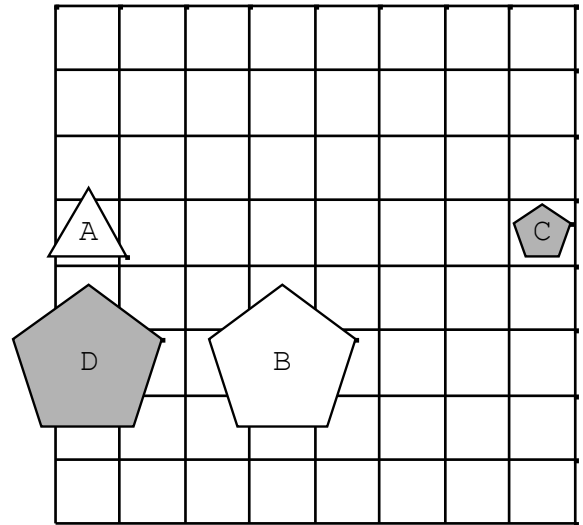
16.



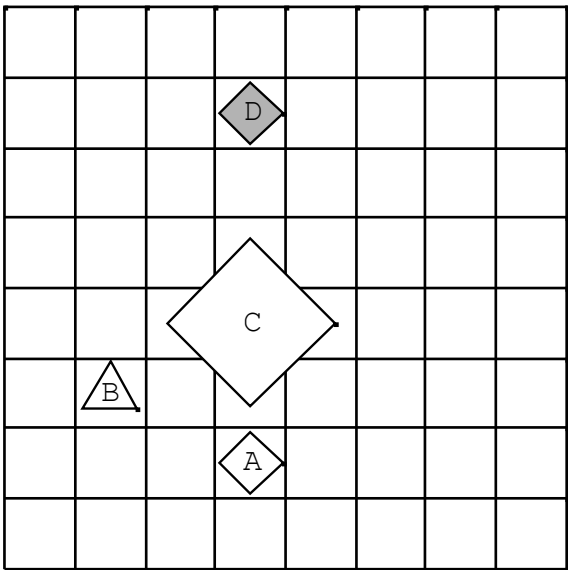
17.



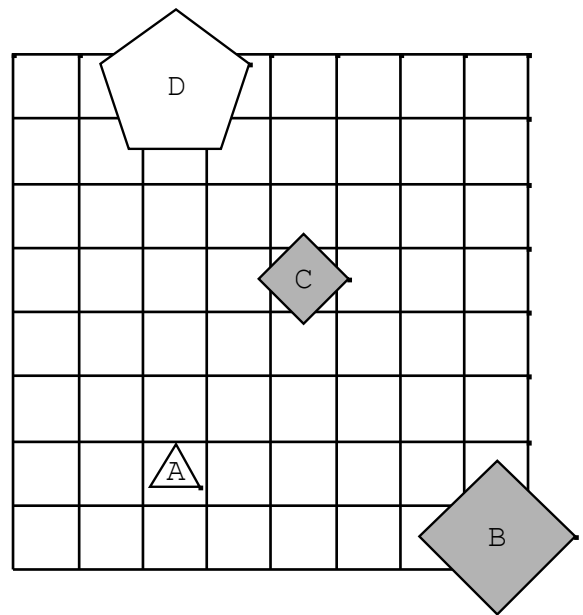
19.



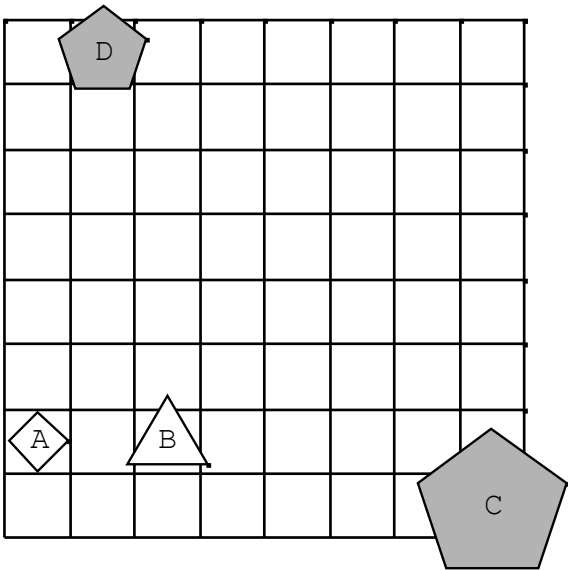
18.



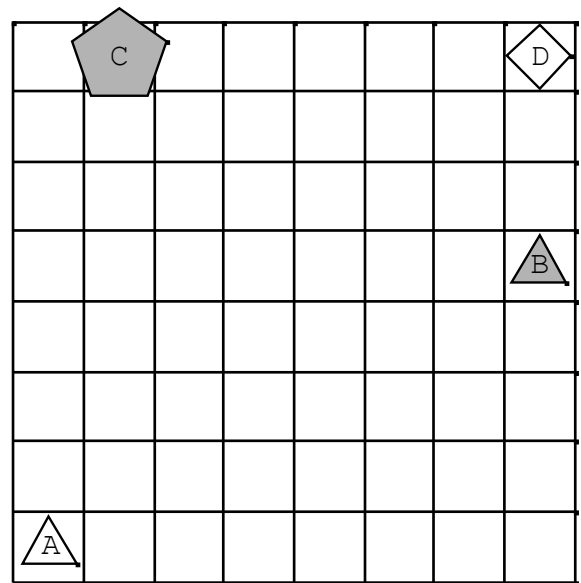
20.



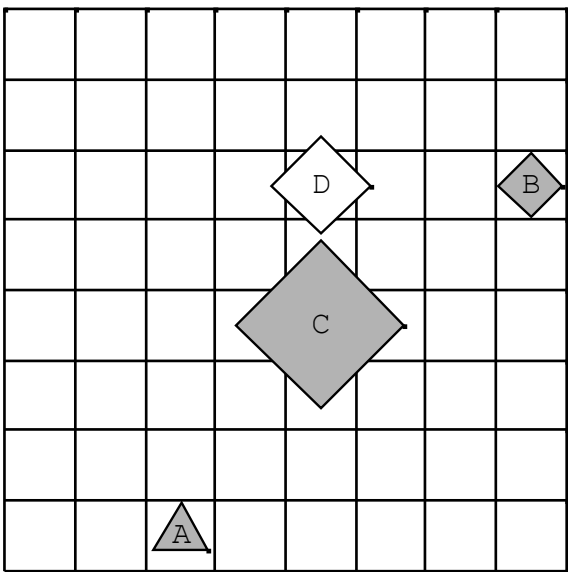
21.



23.



22.



24.

